

Шифр 9-08

Ставропольский край
Муниципальный этап всероссийской олимпиады школьников
2019/2020 учебного года

Работа по *ОДЖ*

ученика (цы) 9 класса
муниципального казенного образовательного учреждения
«Средняя общеобразовательная школа №2»
Грачевского муниципального района

Трабальва Юхимович
(ФИО полностью)

Наставник *Васильева Анна Владимировна*
(ФИО полностью)

16 ноября 2019 года

ДЫ ШКОЛЬНИКОВ


НОСТИ 9-08

кий тур	7	8	9	10
	010	10	15	15

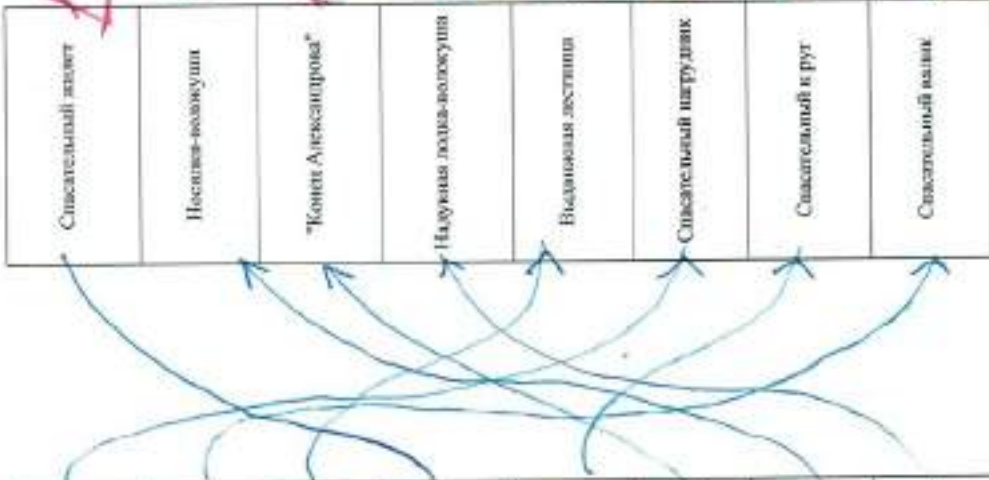
НИЕ В УСЛОВИЯХ ПРИРОДНОЙ СРЕДЫ

помощи пронашиваемую на ладю человеку использовать
ные средства.

к установите соответствие между табельным средством
аннем:



Спасательный жилет	Носилка-волокуша	"Конек Александрова"	Надувная лодка-волокуша	Выдвижная лестница	Спасательный парашют	Спасательный к ру	Спасательный матрас
--------------------	------------------	----------------------	-------------------------	--------------------	----------------------	-------------------	---------------------



Оценочные баллы: максимальный 8 баллов фактически 8 баллов

СТАВРОПОЛЬСКИЙ КРАЙ
ДИЦИПЛИНАЛЬНЫЙ ЭТАП ВСЕРОССИЙСКОЙ ОЛИМПИАДЫ ШКОЛЬНИКОВ
2019/20 УЧЕБНОГО ГОДА

16 ноября 2019 года

ОСНОВЫ БЕЗОПАСНОСТИ ЖИЗНЕДЕЯТЕЛЬНОСТИ

9-01

ИГРЕ В УСЛОВИЯХ ПРИРОДНОЙ СРЕДЫ

Класс	Всего баллов	Количество баллов за задание													
		Теоретический тур					Практический тур								
		Задания													
9	8	9	8	16	2	11	16	10	5	10	0	20	10	15	15

ПРЕДСЕДАТЕЛЬ:
ЧЛЕНЫ ЖЮРИ:

- Ратушинский Владислав Константинович
- Черновитский Виталий Владимирович
- Довгалева Константин Георгиевич
- Звонров Александр Николаевич
- Афанасьев Петр Викторович

мнение с учетом анализа ситуации или поставленной проблемы. Внимательно и аккуратно определите смысл вопроса и логику ответа (последовательность и точность изложения). Ответы на вопросы, представляйте свой вариант решения проблемы, при этом ответ должен быть кратким, но содержать необходимую информацию.

- после выполнения всех предложенных заданий еще раз удостоверьтесь в правильности выбранных вами ответов и решений.

Выполняйте все задания максимально аккуратно и внимательно!

- не спешите, внимательно прочтите задание;
- определите, какой (какие) из предложенных вариантов ответа наиболее верный (верные) и полный (полные);
- обведите кружком буквы, соответствующую выбранному ответу;
- продолжайте таким образом работу до завершения выполнения тестовых заданий;
- после выполнения всех предложенных заданий еще раз удостоверьтесь в правильности выбранных ответов;
- если требуется корректировка выбранного варианта ответа, то исправленный вариант ответа зачеркните крестиком, а новый выбранный ответ обведите кружком.

Обратите Ваше внимание на то, что:

- при оценке тестовых заданий, где необходимо определить один правильный ответ, 0 баллов выставляется как за неверный ответ, а также, если отмечены несколько ответов (в том числе правильных), или все ответы;
- при оценке тестовых заданий, где необходимо определить все правильные ответы, 0 баллов выставляется, если отмечены больше ответов, чем необходимо, или все ответы (в том числе правильные).

Задание теоретического тура считается выполненным, если Вы вовремя скажете его членам жюри.

Жюри вам удачи!

Общая оценка результатов участия 189 баллов
 Председатель жюри Ратушинский!

попытки проанализировать на льду человеку используются новые средства.
 же установите соответствие между табельным средством и инструментом.

	Специальный якорь	1
	Носовая-волокуша	1
	"Ковш Александров"	1
	Надувная лодка-волокуша	1
	Выдвижная лестница	1
	Специальный нагрудник	1
	Специальный к рут	1
	Специальный валик	1

Оценочные баллы: максимальный 8 баллов фактически 8 баллов

СТАВРОПОЛЬСКИЙ КРАЙ
МУНИЦИПАЛЬНЫЙ ЭТАП ВСЕРОССИЙСКОЙ ОЛИМПИАДЫ ШКОЛЬНИКОВ
2019/20 УЧЕБНОГО ГОДА

ОСНОВЫ БЕЗОПАСНОСТИ ЖИЗНДЕЯТЕЛЬНОСТИ
9 класс

ТЕОРЕТИЧЕСКИЙ ТУР

Количество участников
9-СФ

(ожидая учителя, Олимпиады!)

Вам предстоит выполнить теоретические и тестовые задания.

Выполните максимум заданий самостоятельно ориентированно следующим образом:

- не спеша, внимательно прочтите задание и определите, наиболее верный и полный ответ;
- отвечая на теоретический вопрос, обдумайте и сформулируйте конкретный ответ только на поставленный вопрос;

- если вы отвечаете на задание, связанное с заполнением таблицы или схем, не старайтесь дублировать информацию, вписывая только те сведения, которые указаны в вопросе;
- особое внимание обратите на задания, в выполнении которых требуется выбрать, чаще всего с учетом аналога ситуации или поставленной проблемы. Внимательно и аккуратно определите смысл вопроса и логику ответа (последовательность и точность изложения). Ответы на вопросы, предлагайте свой вариант решения проблемы, при этом ответ должен быть кратким, но содержать необходимую информацию;
- если вы отметили все предложенных заданий еще раз заостерьтесь в правильности выбранных вами ответов и решений.

Выполните максимум заданий самостоятельно ориентированно следующим образом:

- не спеша, внимательно прочтите тестовое задание;
- определите, какой (какие) из предложенных вариантов ответа наиболее верный (верные) и полный (полные);
- обведите кружком букву, соответствующую выбранному ответу;
- проделайте таким образом работу до завершения выполнения тестовых заданий;
- после выполнения всех предложенных заданий еще раз заостерьтесь в правильности выбранных ответов;
- если потребуется корректировка выбранного варианта ответа, то исправленный вариант ответа зачеркните крестиком, а новый выбранный ответ обведите кружком.

Обращаем Ваше внимание на то, что:

- при оценке тестовых заданий, где необходимо определить один или несколько ответов, 0 баллов выставляется как за неверный ответ, а также, если отмечены несколько ответов (в том числе неправильный), или все ответы;
- при оценке тестовых заданий, где необходимо определить все возможные ответы, 0 баллов выставляется, если отмечены больше ответов, чем необходимо, или все ответы (в том числе правильные).

Задание теоретического тура считается выполненным, если Вы вовремя сдадите его членам жюри.

Ждем вас у себя!

Общая оценка результата участника	189	баллов
Подпись жюри	<i>А.А. Прохорова</i>	

1. ВЫЖИВАНИЕ В УСЛОВИЯХ ПРИРОДНОЙ СРЕДЫ

ЗАДАНИЕ 1. При оказании помощи пострадавшему на льду человеку нельзя пользоваться как табельные, так и подручные средства.

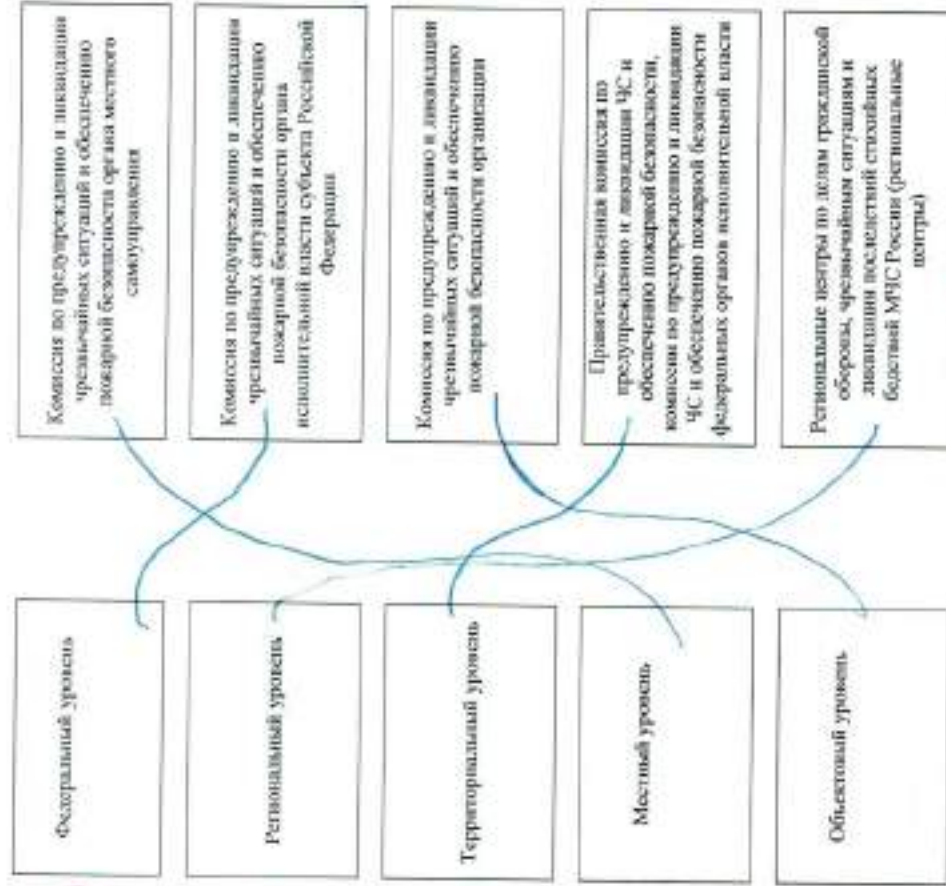
При помощи стрелок установите соответствие между табельными средствами оказания помощи и его названием:

	Спасательный жилет
	Носилки-волокуши
	"Канат Александрова"
	Надувная лодка-волокуша
	Водониклая пестница
	Спасательный наручник
	Спасательный к рулю
	Спасательный валик

Ориентировочные баллы: максимальный 8 баллов фактически 8 баллов

ЗАДАНИЕ 2. На каждом уровне РСЧС создаются координационные органы, постоянно действующие органы управления, органы повседневного управления, силы и средства, резервы финансовых и материальных ресурсов, система связи, оповещения и информационного обеспечения.

Сопоставьте стрелками уровень РСЧС с координирующими органами управления.



Оценочные баллы: максимальный 10 баллов фактический 6 баллов

ЗАДАНИЕ 3. Впишите в таблицу режимы функционирования РСЧС в условиях их функционирования.

Наименование режима Режим повседневной деятельности	Условия функционирования или название
	0
0	Функционирование системы при ухудшении производственной, промышленной, сельскохозяйственной, биологической (бактериологической), сейсмической, гидрометеорологической обстановки и при получении прогноза о возможности возникновения чрезвычайных ситуаций, а также в условиях военной опасности.
Режим чрезвычайной ситуации	0

Оценочные баллы: максимальный 9 баллов фактический 0 баллов

3. БЕЗОПАСНОСТЬ В СОЦИАЛЬНОЙ СРЕДЕ

ЗАДАНИЕ 1. Терроризм - это опаснейшее преступление против человечества, крайняя форма проявления насилия и жестокости в отношении человека или организаций, а также уничтожение имущества и других материальных ценностей, действий, создающих опасность гибели людей либо причинения значительного имущественного ущерба.

Ответьте на вопрос. Что такое кибертерроризм?

Кибертерроризм - это терроризм в соц-сети, угроза в интернете, киберформации в фирмах, машинах, заводах и кон. Вмешивание в деятельность компаний, промышленной сферы, профессиональных организаций, а также кибершпионы, шпионы

Оценочные баллы: максимальный 10 баллов фактический 6 баллов

ЗАДАНИЕ 2. Перечислите особенности современной террористической деятельности в России.

1. Терроризм переместился в интернет

2. Терроризм переместился в кон

Оценочные баллы: максимальный 12 баллов фактический 2 баллов

3. Завышенные налоги

4. Угрозы в соц-сетях

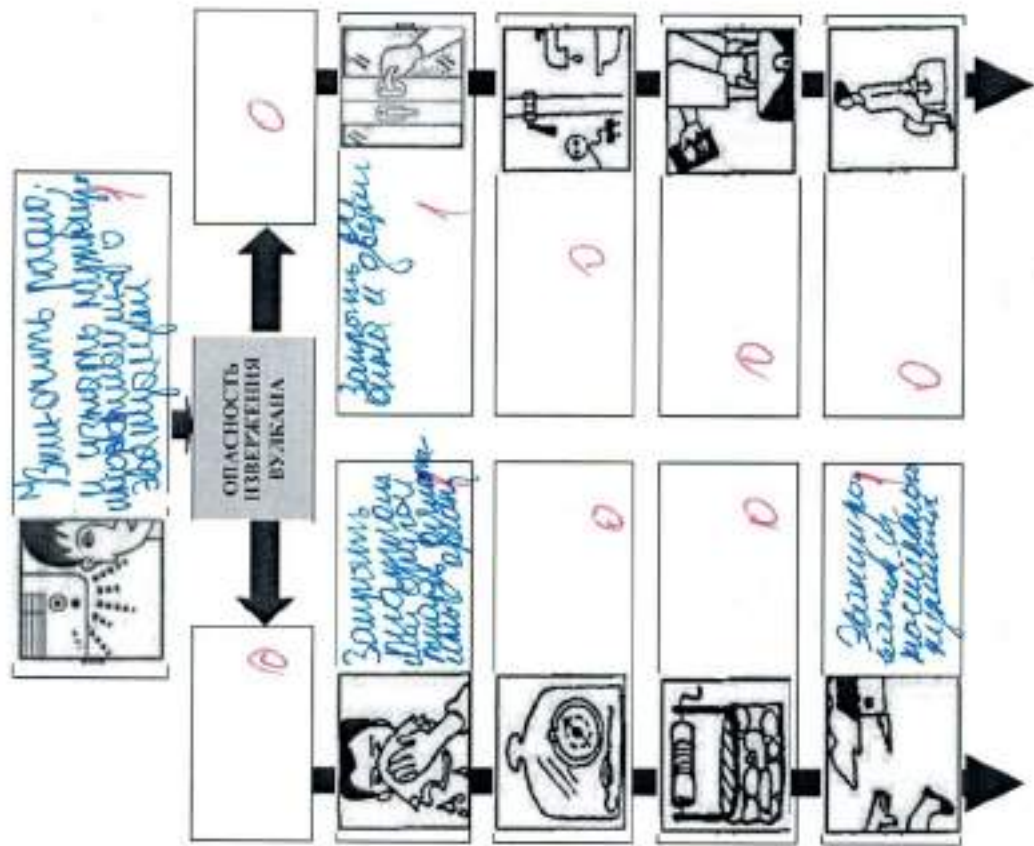
5.

6.

4. ЧРЕЗВЫЧАЙНЫЕ СИТУАЦИИ ПРИРОДНОГО И ТЕХНОГЕННОГО ХАРАКТЕРА







ЗАДАНИЕ 1. Человечество в процессе развития сталкивается регулярно с различными опасными явлениями в чрезвычайных ситуациях.

Заполните схему действий при получении сигнала "Внимание всем!"



Оценочные баллы: максимальный 11 баллов фактически 4 балла

ЗАДАНИЕ 2. Напишите правила поведения пассажира при возникновении пожара в общественном транспорте, опираясь на приведенный в таблице изображениях:

	1	Замолчать радио, и услышать мурлыку штурманской кабины 0
	2	Замолчать радио, услышать мурлыку штурманской кабины 2
	3	Замолчать радио, услышать мурлыку штурманской кабины 2
	4	Замолчать радио, услышать мурлыку штурманской кабины 2
	5	Замолчать радио, услышать мурлыку штурманской кабины 2
	6	Замолчать радио, услышать мурлыку штурманской кабины 2
	7	Замолчать радио, услышать мурлыку штурманской кабины 2

Оценочные баллы: максимальный 14 баллов фактически 12 баллов

Тестовые задания

№ вопроса	Тестовые задания	Макс. балл	Кол-во набранных баллов
<i>Определите один правильный ответ</i>			
1.	<p>В зависимости от обстановки и масштаба ЧС устанавливаются один из следующих режимов функционирования РСЧС:</p> <p><input checked="" type="radio"/> а) организационно-обстановочный;</p> <p><input type="radio"/> б) поисково-спасательный;</p> <p><input type="radio"/> в) оперативного реагирования.</p>	1	0
2.	<p>Современный город с количеством жителей 200 тыс. чел. относится к категории:</p> <p><input type="radio"/> а) малых;</p> <p><input type="radio"/> б) средних;</p> <p><input checked="" type="radio"/> в) больших;</p> <p><input type="radio"/> г) крупных.</p>	1	1
3.	<p>Определите класс лесного пожара, если огнем охвачено 100 га леса:</p> <p><input type="radio"/> а) катастрофический пожар;</p> <p><input type="radio"/> б) средний пожар;</p> <p><input type="radio"/> в) небольшой пожар;</p> <p><input checked="" type="radio"/> г) крупный пожар.</p>	1	0
4.	<p>По результатам воздействия на побережье (магнитуде интенсивности) цунами оценивают по условиям:</p> <p><input type="radio"/> а) 6-балльной шкале;</p> <p><input type="radio"/> б) 8-балльной шкале;</p> <p><input type="radio"/> в) 10-балльной шкале;</p> <p><input checked="" type="radio"/> г) 12-балльной шкале.</p>	1	0
5.	<p>Федеральный закон в России, определяющий правовые и организационные нормы в области защиты от чрезвычайных ситуаций, называется:</p> <p><input type="radio"/> а) «О безопасности»;</p> <p><input checked="" type="radio"/> б) «О защите населения и территорий от чрезвычайных ситуаций природного и техногенного характера»;</p> <p><input type="radio"/> в) «Об обороне».</p>	1	1
6.	<p>В коридоре 2-го этажа школы, в коридоре для мусора, стоящей</p>	1	

	<p>недалеко от подоконника, ввиду отсутствия. Касовал будут Ваши действия?</p> <p><input type="radio"/> а) накрыть корзину для мусора плотной тканью;</p> <p><input type="radio"/> б) выбросить корзину для мусора в окно;</p> <p><input checked="" type="radio"/> в) попытаться перевернуть корзину для мусора;</p>		0
7.	<p>Чему может способствовать высокая плотность застройки города?</p> <p><input type="radio"/> а) разрушительному действию урагана;</p> <p><input type="radio"/> б) развитию местного пожара;</p> <p><input checked="" type="radio"/> в) развитию взрывопожароопасной категории;</p> <p><input type="radio"/> г) образованию спящих пожаров.</p>	1	0
8.	<p>Первые признаки жаретического отравления:</p> <p><input type="radio"/> а) повышение мышечного тонуса, покраснение кожи;</p> <p><input type="radio"/> б) обильный слез, кровотоки из носа;</p> <p><input checked="" type="radio"/> в) охриплость по рту, покраснение кожи, тошнота и рвота;</p>	1	0
9.	<p>Наиболее опасным периодом сбора свежих листьев салата является:</p> <p><input type="radio"/> а) период после высеивания семян в почву;</p> <p><input type="radio"/> б) период с 10-00 час утра до захода солнца весной и летом;</p> <p><input checked="" type="radio"/> в) период с 14-00 час до захода солнца зимой и осенью;</p>	1	0
10.	<p>В случае эвакуации из зоны аварии на химическом - опасном объекте с выбором АХОВ прибыть на место размещения, а первую очередь необходимо:</p> <p><input type="radio"/> а) промыть глаза, прополоскать рот, пройти по пути питания;</p> <p><input type="radio"/> б) выключить календарь-либо физические приборы и лед, отключить;</p> <p><input type="radio"/> в) немедленно зарегирироваться, затем сменить одежду, вытереть обувь, пройти в здание и умыться;</p> <p><input checked="" type="radio"/> г) снять верхнюю одежду, промыть глаза, прополоскать рот, принять душ с мылом.</p>	1	1
11.	<p>Для безопасной работы на компьютере необходимо:</p> <p><input type="radio"/> а) своевременно удалять пыль с монитора, источник света за монитором, работать не больше 25 минут непрерывно;</p> <p><input checked="" type="radio"/> б) яркий свет должен быть ярким; кресло, диван должны размещаться не ближе 1-1,5 м; работать не больше 4 часов в день;</p> <p><input type="radio"/> в) своевременно удалять пыль с монитора, источник света справа от монитора, работать не больше 35 минут непрерывно.</p>	1	0

12.	<p>Определите действие, не относящиеся к правилам поведения при захвате в заложники:</p> <p>а) по возможности разговаривай поближе к околу или двери, подальше от преступников;</p> <p>б) на совершение любых действий (сесть, встать, ходить и т.д.) спрашивайте разрешения;</p> <p>в) для поддержания сил сделайте все, что вам предлагают.</p>	1	0
13.	<p>В солнечный полдень тень указывает направление на:</p> <p>а) юг;</p> <p>б) север;</p> <p>в) запад;</p> <p>г) восток.</p> <p>Укажите правильный ответ.</p>	1	1
14.	<p>Укажите, к какому последствию в организме приводит недостатке железа в пище:</p> <p>а) и нарушается осанка;</p> <p>б) к малокровию;</p> <p>в) к нарушению костной ткани.</p>	1	0
15.	<p>Многочисленные исследования специалистов в разных странах мира показали, что здоровье человека на 50% полностью зависит от:</p> <p>а) образа жизни;</p> <p>б) экологических факторов;</p> <p>в) социальной муниципального обслуживания населения;</p> <p>г) наследственности.</p>	1	1
<i>Определите все правильные ответы</i>			
16.	<p>Правилами 2-й степени термического ожога является:</p> <p>а) некроз мышечной ткани;</p> <p>б) частые обугливание кожи;</p> <p>в) образование пузырей;</p> <p>г) обширные пузыри;</p> <p>д) чувство жжения.</p>	2	1
17.	<p>О том, что консервы испорчены, могут говорить следующие признаки:</p>	3	

	<p>а) слезная кислота;</p> <p>б) бурашник;</p> <p>в) просрочен срок годности;</p> <p>г) ржавчина на банке;</p> <p>д) не герметичность упаковки.</p>		3
18.	<p>Что надо делать для принятия безболезненного положения при аварийной посадке самолета? Выберите из предлагаемых вариантов самые действенные действия и определите их очередность:</p> <p>а) согнуть тело и заклонить голову как можно ниже;</p> <p>б) руки сложить на животе;</p> <p>в) руками прикрыть голову;</p> <p>г) руками упереться в спинку переднего сидения;</p> <p>д) упереться ногами в спинку переднего сидения.</p>		3
19.	<p>Основными поражающими факторами пыжами являются:</p> <p>а) наводнение;</p> <p>б) разряды статического электричества;</p> <p>в) ударное воздействие волны;</p> <p>г) инерционные возникающие во время полета;</p> <p>д) разваление.</p>		1
20.	<p>Определите основные этапы обеспечения аварийно-спасательных работ:</p> <p>а) вертолетная служба;</p> <p>б) разведка;</p> <p>в) биологическая защита;</p> <p>г) химическая защита;</p> <p>д) метеорологическое обеспечение.</p>		2
<i>Число жюри</i>			max 28
			11

Баллы	
Максимально возможное количество баллов	Фактическое количество баллов, набранное участниками
150	54

Председатель:  Ружниковский Владимир Константинович

Члены жюри:  Черножилов Виталий Владимирович

 Долганов Константин Георгиевич

 Жуковский Алексей Николаевич

 Афанасьев Петр Викторович

ШКОЛЬНИКОВ
ИТИ 9-09

Старонольский край
Муниципальный этап всероссийской олимпиады школьников
2019/2020 учебного года

7	8	9	10
15	15	15	15

Работа по

ученика (иы) 9 класса
муниципального казённого общеобразовательного учреждения
«Средняя общеобразовательная школа № 9
Грачевского муниципального района

Евгений Александрович Шибалин
(ФИО полностью)

Евгений Александрович Шибалин
(ФИО полностью)

46 ноября 2019 года

МНЕНИЕ В УСЛОВИЯХ ПРИРОДНОЙ СРЕДЫ

помощи проанализируем наряду человеку используются
ные средства.
и установите соответствие между табельным средством
ишем:

	Спасательный жилет
	Носилки-алюминий
	"Ковчег Александрия"
	Надувная лодка-воздушная
	Выживочная аптечка
	Спасательный инвентарь
	Спасательный ватик
	Спасательный волтик

Оценочные баллы: максимальный 9 баллов фактический 8 баллов

**ОЛИМПИАДА ШКОЛЬНИКОВ
СТАДИОНА ИЛИ КВАРТИРЫ
ВСЕРОССИЙСКОЙ ОЛИМПИАДЫ ШКОЛЬНИКОВ
2019/20 УЧЕБНОГО ГОДА**




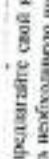
16 ноября 2019 года

ОСНОВЫ БЕЗОПАСНОСТИ ЖИЗНЕДЕЯТЕЛЬНОСТИ

9-09

Класс	Всего баллов	Количество баллов за задание															
		Теоретический тур					Практический тур										
		Задания		Тесты			Задания		Тесты								
9		1	2	3	4	5	6	1	2	3	4	5	6	7	8	9	10
		8	18	40	17	8	15	10	10	10	10	7	19	15	15	15	15

ПРЕДСЕДАТЕЛЬ:
ЧЛЕНЫ ЖЮРИ:

-  Ратушинский Владислав Константинович
-  Червонаяшый Виталий Владимирович
-  Дворников Константин Георгиевич
-  Звоноров Алексей Николаевич
-  Афанасьев Петр Викторович

на вопрос, предлагайте свой вариант решения проблемы, в котором нежелательна. Уточняя по содержанию информацию.

- после выполнения всех предложенных заданий еще раз удостоверьтесь в правильности выбранных вами ответов и решений
- выделите **максимально возможное количество вариантов ответов** в правильности
- не спешите, внимательно прочитайте каждое задание;
- определите, какой (какие) из предложенных вариантов ответа наиболее верный (верные) и полный (полные);
- объедините в одну группу, соответствующую выбранному ответу;
- продолжайте таким образом работу до завершения выполнения тестовых заданий;
- после выполнения всех предложенных заданий еще раз удостоверьтесь в правильности выбранных ответов;
- если потребуется корректировка выбранного варианта ответа, то неграмотный вариант ответа зачеркните крестиком, а новый выбранный ответ обведите кружком.

Обращаем Ваше внимание на то, что:

- при оценке тестовых заданий, где необходимо определить один правильный ответ, 6 баллов выставляется как за неверный ответ, а также, если отмечены несколько ответов (в том числе правильные), или все ответы;
- при оценке тестовых заданий, где необходимо определить все правильные ответы, 0 баллов выставляется, если отмечены больше ответов, чем необходимо, или все ответы (в том числе правильные).

Задание теоретического тура считается выполненным, если Вы вовремя сдадите его членам жюри.

















Желаем вам удачи!

Общая оценка результата участника 187 баллов

Председатель жюри 

АНКЕ В УСЛОВИЯХ ПРИРОДНОЙ СРЕДЫ

с помощью предложенных средств на ладю человеку используются различные средства. Как установите соответствие между табельным средством и средством:

		Складчатый ножик
		Носилка-волокуша
		"Конек Александрова"
		Надувная лодка-волокуша
		Выдвижная лестница
		Складчатый нагрудник
		Складчатый к рух
		Складчатый валик

Оценочное базис: максимальный 8 баллов фактический 8 баллов

ТЕОРЕТИЧЕСКИЙ ТУР

Колонка участника
9-09

Уважаемый участник Олимпиады!

Вам предстоит выполнить теоретические и тестовые задания.

- Выполняйте тестовые задания:**
- не спеша, внимательно прочитайте задание и определите, наиболее верный и полный ответ; поставивший вопрос;
 - если вы отвечаете на задание, связанное с заполнением таблицы или схемой, не старайтесь дублировать информацию, вписывайте только те сведения или данные, которые указаны в вопросе; многие с учетом анализа ситуации или постановленной проблемы. Внимательно и аккуратно определите смысл вопроса и логику ответа (последовательность и точность глагольных). Отвечая на вопрос, представляйте свой вариант решения проблемы, при этом ответ должен быть кратким, но содержать необходимую информацию;
 - после выполнения всех предложенных заданий еще раз удостоверьтесь в правильности выделенных вами ответов и решений.

Выполняйте тестовые задания тестового тура:

- не спеша, внимательно прочитайте тестовое задание;
- определите, какой (какие) из предложенных вариантов ответа наиболее верный (верные) и полный (полные);
- обведите кружком букву, соответствующую выбранному ответу;
- продолжайте таким образом работу до завершения выполнения тестовых заданий;
- после выполнения всех предложенных заданий еще раз удостоверьтесь в правильности выбранных ответов;
- если потребуется корректировка выбранного варианта ответа, то исправленный вариант ответа зачеркните крестиком, а новый выбранный ответ обведите кружком.

Обращаем Ваше внимание на то, что:

- при оценке тестовых заданий, где необходимо определить один правильный ответ, 0 баллов выставляется как за неверный ответ, а также, если отмечены несколько ответов (в том числе неправильный), или все ответы;
- при оценке тестовых заданий, где необходимо определить все правильные ответы, 0 баллов выставляется, если отмечены больше ответов, чем необходимо, или все ответы (в том числе правильные).

Задание теоретического тура считается выполненным, если Вы вовремя сделаете его членам жюри.

Желаем вам успеха!

Общая оценка результата участника 18,7 баллов

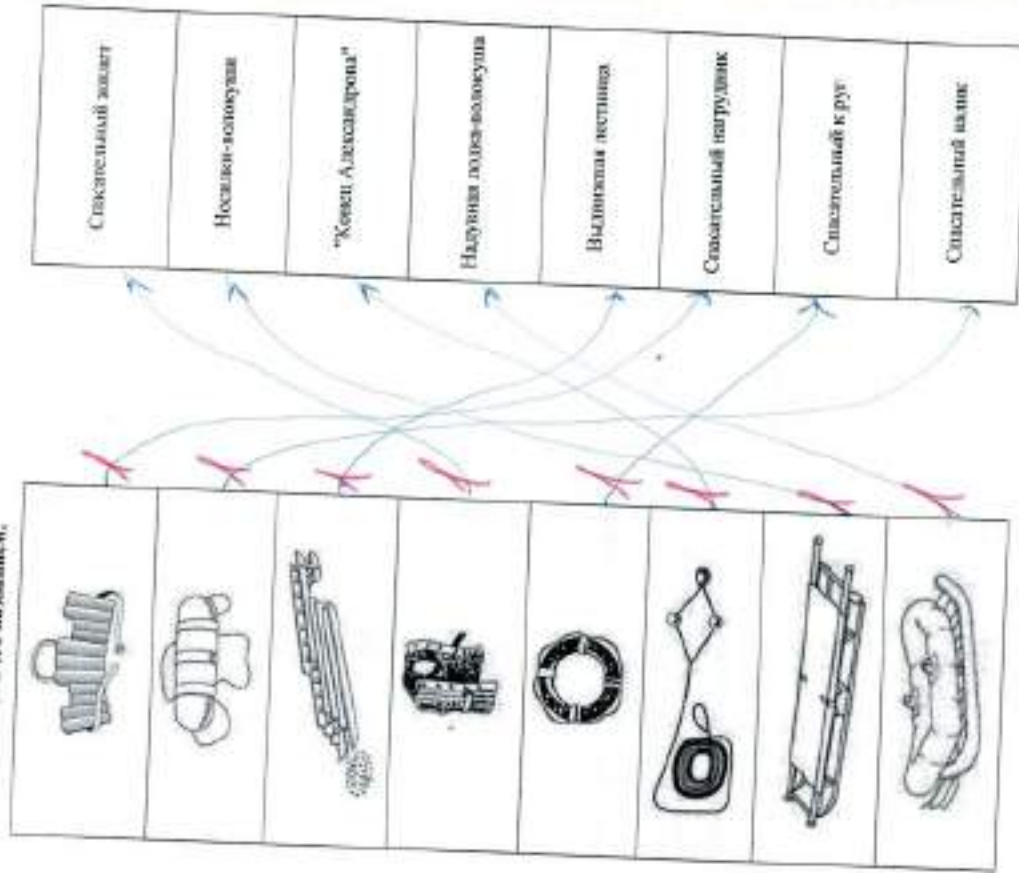
Присоединив жюри

А.А. Вязушкин

4. ВЫЖИВАНИЕ В УСЛОВИЯХ ПРИРОДНОЙ СРЕДЫ

ЗАДАНИЕ 1. При оказании помощи проваливающимся на льду человеку используются как табельные, так и подручные средства.









При помощи стрелки установите соответствие между табельным средством оказания помощи и его названием:



Оценочные баллы: максимальный 8 баллов фактический 8 баллов

ЗАДАНИЕ 2. Картографические условные знаки - система символических графических обозначений, применяемых для изображения на картах различных объектов и явлений, их качественных и количественных характеристик.

Дайте название условным знакам топографических карт отдельных местных предметов.

	0
	Экваториальная 0
	0
	0
	0
	Круглик 0
	0
	лес 0

Оценочные баллы: максимальный 16 баллов фактический 0 баллов

2. ЕДИННАЯ ГОСУДАРСТВЕННАЯ СИСТЕМА ПРЕДУПРЕЖДЕНИЯ И ЛИКВИДАЦИИ ЧРЕЗВЫЧАЙНЫХ СИТУАЦИЙ

ЗАДАНИЕ 1. Единая государственная система предупреждения и ликвидации чрезвычайных ситуаций (РСЧС) предназначена для предупреждения и ликвидации чрезвычайных ситуаций техногенного, природного и экологического характера, а в условиях ведения боевых действий и последствий этих действий (при определенных структурных изменениях) - и для решения задач по защите населения и территорий в чрезвычайных ситуациях военного характера.

Ответьте на вопросы:

Вопрос 1. Почему возможна необходимость создания РСЧС, если существовала гражданская оборона (ГО)?

0

Вопрос 2. Могут ли применяться Воскресные Силы РФ для ликвидации последствий ЧС?

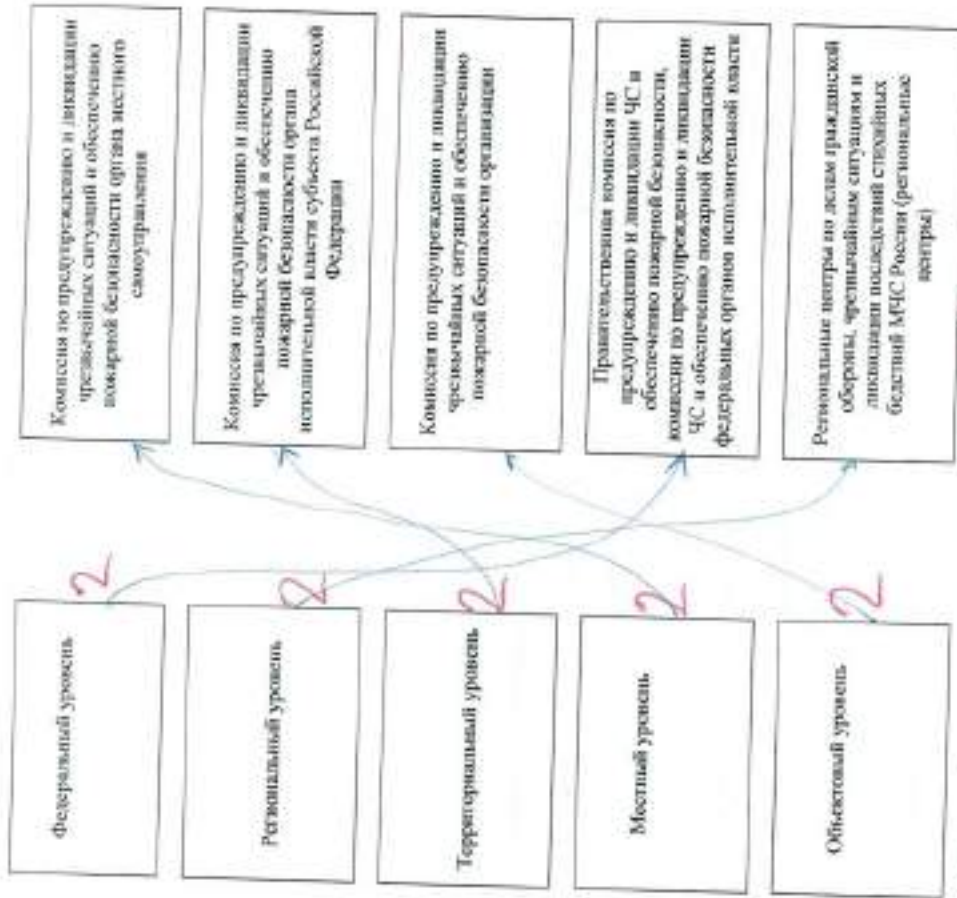
Воскресные Силы РФ могут применяться в случае чрезвычайных ситуаций техногенного, природного и экологического характера, а в условиях ведения боевых действий и последствий этих действий (при определенных структурных изменениях) - и для решения задач по защите населения и территорий в чрезвычайных ситуациях военного характера.

4

Оценочные баллы: максимальный 8 баллов фактический 4 баллов

ЗАДАНИЕ 2. На каждом уровне РСЧС создаются координационные органы, постоянно действующие органы управления, органы повседневного управления, силы и средства, резервы финансовых и материальных ресурсов, системы связи, оповещения и информационного обеспечения.

Сопоставьте стрелками уровень РСЧС с координирующими органами управления.



Оценочные баллы: максимальный 10 баллов фактически 10 баллов

ЗАДАНИЕ 3. Выпишите в таблицу режимы функционирования РСЧС и условия их функционирования.

Наименование режима Режим повседневной деятельности	Условия функционирования или введения
Режим предупреждения 1	0 Функционирование системы при ухудшении прогнозности чрезвычайной, региональной, замечательной, биологической (бактериологической), сейсмической, гидрометеорологической обстановки и при получении прогноза о возможности возникновения чрезвычайных ситуаций, а также в условиях высокой опасности
Режим чрезвычайной ситуации	Функционирование системы в случае возникновения чрезвычайной ситуации 3

Оценочные баллы: максимальный 9 баллов фактически 4 балла

3. БЕЗОПАСНОСТЬ В СОЦИАЛЬНОЙ СРЕДЕ

ЗАДАНИЕ 1. Терроризм - это наиболее преступное против человечества, крайняя форма проявления насилия и жестокости в отношении человека или организаций, а также уничтожение имущества и других материальных ценностей, действия, создающие опасность гибели людей либо причинения значительного имущественного ущерба.

Ответьте на вопрос. Что такое кибертерроризм?

Кибертерроризм - действия, направленные на уничтожение или нанесение вреда здоровью и угроза его жизни, совершаемые с помощью компьютеров. 10

Оценочные баллы: максимальный 10 баллов фактический 10 баллов

ЗАДАНИЕ 2. Перечислите особенности современной террористической деятельности в России.

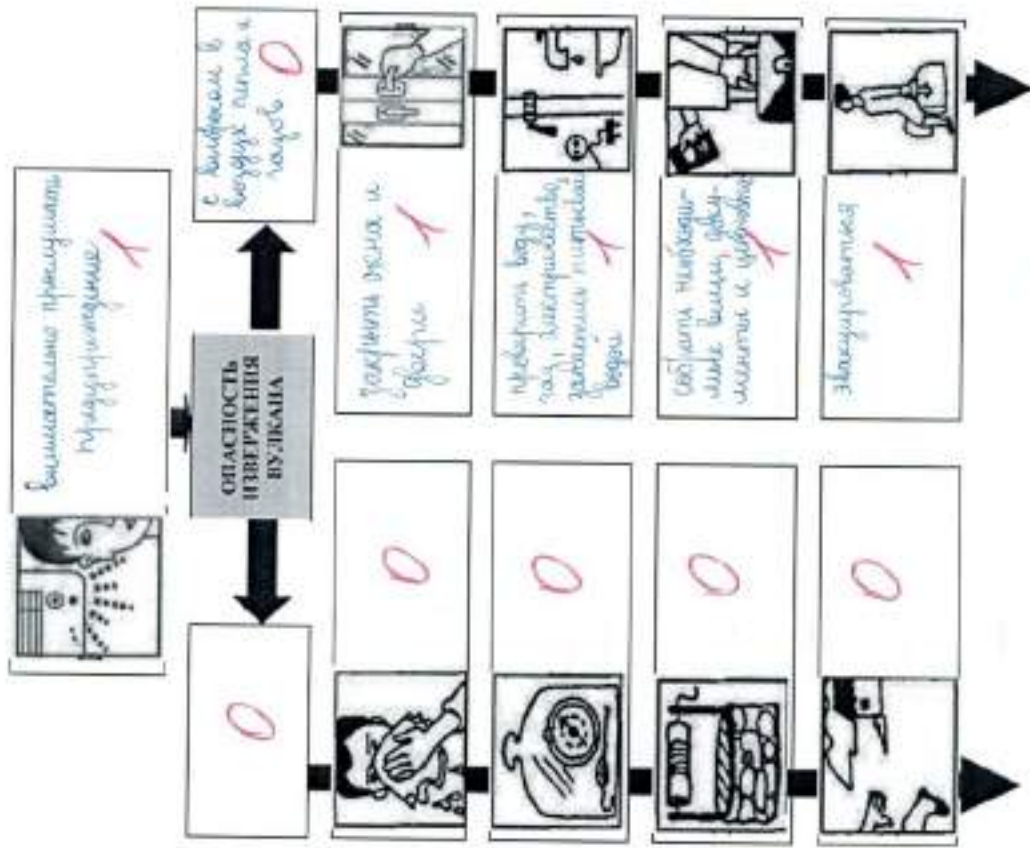
1. 0
2. 0

Оценочные баллы: максимальный 12 баллов фактический 0 баллов

4. ЧРЕЗВЫЧАЙНЫЕ СИТУАЦИИ ПРИРОДНОГО И ТЕХНОГЕННОГО ХАРАКТЕРА








ЗАДАНИЕ 1. Целью является в процессе развития навыков умения регулярно сталкиваться с различными опасными явлениями и чрезвычайными ситуациями.

Заполните схему действий при получении сигнала "Внимание всем!"



Оценочные баллы: максимальный 17 баллов фактический 5 баллов

ЗАДАНИЕ 2. Назовите правила поведения пассажира при возникновении пожара в общественном транспорте, основываясь на приведенных в таблице изображениях:

	Не пользоваться.	0
	решить возникающие вопросы (отт и т.д.) тушить или тушить.	2
	Мойти на стене ладонные или кулак, и выдохом или рывками отойти.	2
	Эвакуироваться всеми и эвакуироваться группой пассажирам.	2
	отойти на безопасное от источника огня место пассажира.	2
	попытки в сторону 112, выдохом потушить и отойти (эвакуироваться) поубавить шаг и шаг, шаг отойти.	2
	отойти на безопасное место от источника огня.	2

Оценочные баллы: максимальный 14 баллов фактический 12 баллов

5. ПОЖАРНАЯ БЕЗОПАСНОСТЬ

ЗАДАНИЕ 1. Пожарная безопасность - состояние защищённости личности, имущества, общества и государства от пожаров.







Спускаясь в лифте с 10-го этажа Вы почувствовали резкий запах, появился дым. Что вы сделаете немедленно? Ответьте на вопрос и запишите в таблицу последовательность номеров всех правильных действий при пожаре:

1. Вызовите пожарную охрану.
2. Попытайтесь оставить лифт на ближайшей этаже и выйти из него.
3. Немедленно сообщите об этом диспетчеру, нажав кнопку "Выход" в кабине, дождитесь остановки лифта.
4. Используйте сухой песок или углекислотный огнетушитель - приступайте к тушению пожара.
5. Забегаете в кабину и будете тушить пожар.
6. После выхода из лифта закрываете двери, чтобы никто не смог выйти лифт.
7. Нажмете кнопку "Стоп", а затем кнопку своего этажа.
8. Если это не помогло, попытаетесь потушить пожар не входя в кабину.
9. Принежете воду и будете тушить пожар.
10. Если лифт движется, не останавливайте его сами, дождитесь остановки.

2 0 0 0 2 2
 1 1 6 8 4

Оценочные баллы: максимальный 12 баллов фактически 6 баллов

ЗАДАНИЕ 2. Заполните таблицу. Назовите группу знаков безопасности и смыслное значение:

Группа	Геометрическая форма знака	Символический элемент	Смысловое значение
Зеркальные 2	Круг с поперечной полосой 	Красный	0
0	Треугольник 	Желтый	0
0	Круг 	Синий	0
0	Квадрат или прямоугольник 	Красный	0
0	Квадрат или прямоугольник 	Зеленый	0
0	Квадрат или прямоугольник 	Синий	0

Оценочные баллы: максимальный 12 баллов фактически 2 баллов

Тестовые задания

№ п/п	Тестовое задание	Макс. балл	Кол-во набранных баллов
<i>Определите один правильный ответ</i>			
1.	В зависимости от обстановки и масштаба ЧС устанавливается один из следующих режимов функционирования РСЧС: а) прогнозирована обстановка; б) повседневной деятельности; в) <input checked="" type="radio"/> экстремальной обстановки; г) оперативного реагирования.	1	0
2.	Сопрежженный город с количеством жителей 200 тыс. чел. относится к категориям: а) малых; б) <input checked="" type="radio"/> средних; в) больших; г) крупных.	1	0
3.	Определите класс лесного пожара, если огнем охвачено 100 га леса: а) катастрофический пожар; б) средний пожар; в) небольшой пожар; г) <input checked="" type="radio"/> крупный пожар.	1	0
4.	По результатам наблюдений на побережье (магнитуде интенсивности) бунами оценивают по ус-ловной: а) 6-бальной шкале; б) 8-бальной шкале; в) 10-бальной шкале; г) <input checked="" type="radio"/> 12-бальной шкале.	1	0
5.	Федеральный закон в России, определяющий правовые и организационные нормы в области защиты от чрезвычайных ситуаций, называется: а) «О безопасности»; б) <input checked="" type="radio"/> «О защите населения и территорий от чрезвычайных ситуаций природного и техногенного характера»; в) «Об обороне».	1	1
6.	В корпусе 2-го этажа школы, в коридоре для мусора, стоящей	1	

	маленько от водоотливника, всасывающий отлив. Канистры будут Ваши действия?		1
7.	Чему может способствовать высокая влажность застройки города? а) разружительному действию кирпича; б) развитию местного пожара; в) наличию взрывопожароопасной категории; г) образованию сплошных пожаров.	1	0
8.	Первые признаки наркотического опьяления: а) покраснение мышечного телула, покраснение кожи; б) беспривычный смех, кровоотечение из носа; в) горечь во рту, покраснение кожи, тошнота и рвота.	1	0
9.	Наиболее опасным периодом съезда снежных лавин считается: а) период после выпадения осадков зимой; б) период с 10-00 час утра до захода солнца весной и летом; в) период с 14-00 час. до захода солнца зимой и осенью.	1	0
10.	В случае эвакуации из зоны аварии на химическом - опасном объекте с оборудованием АХОВ убраться на место размещения, и первую очередь необходимо: а) промывать глаза, провозлоосать рот, проойти на пункт питания, исключить какие-либо физические нагрузки и лечь отдыаться; б) немедленно зарегистрироваться, затем сменить одежду, вытереть обувь, проойти в здание и умыться; в) снять верхнюю одежду, промывать глаза, провозлоосать рот, принять душ с мылом.	1	1
11.	Для безопасной работы на компьютере необходимо: а) своевременно уходить палл с монитора, источник света за монитором; работать не больше 25 минут непрерывно; б) верхний свет должен быть ярким, яркость, лавин должна размещаться не ближе 1-1,5 м работать не больше 4 часов в день; в) <input checked="" type="radio"/> своевременно уходить палл с монитора, источник света справа от монитора; работать не больше 35 минут непрерывно.	1	0

12.	<p>Определите действие, не относящееся к правилам поведения при заходе в заложник:</p> <p>а) по возможности располагайтесь поближе к окну или двери, повышая от преступников;</p> <p>б) на совершение любых действий (есть, встать, попить и т.д.) спрашивайте разрешения;</p> <p>в) для подстраховки сами едите все, что вам предлагают.</p>	1	0
13.	<p>В словечный полдень, тем, указывает направление на:</p> <p>а) юг;</p> <p>б) север;</p> <p>в) запад;</p> <p>г) восток.</p> <p>Укажите ориентальной ответ.</p>	1	0
14.	<p>Укажите, к какому последствию в организме приводит недостаток железа в пище:</p> <p>а) к нарушению осанки;</p> <p>б) к малокровию;</p> <p>в) к нарушению костной ткани.</p>	1	1
15.	<p>Многолетнее исследование специалистов в разных странах мира показало, что здоровье человека на 50% полностью зависит от:</p> <p>а) образа жизни;</p> <p>б) экологических факторов;</p> <p>в) состояния муниципального обслуживания населения;</p> <p>г) наследственности.</p>	1	1
16.	<p>Определите все правильные ответы</p> <p>Приваками 2-й степени термического ожога являются:</p> <p>а) ожог мышечной ткани;</p> <p>б) частичное обугливание кожи;</p> <p>в) образование пузырей;</p> <p>г) обширные пузыри;</p> <p>д) чувство жжения.</p>	2	2
17.	<p>О том, что консервы испорчены, могут говорить следующие признаки:</p>	3	

	<p>а) вдувая крышка;</p> <p>б) булавка;</p> <p>в) пророчен срок годности;</p> <p>г) ржавчина на банке;</p> <p>д) не герметичность упаковки.</p>		2
18.	<p>Что надо делать для принятия безопасного положения при аварийной посадке самолета? Выберите из предлагаемых вариантов один или несколько действий и определите их очеренность:</p> <p>а) согнуть тело и наклонить голову как можно ниже;</p> <p>б) руки сложить на животе;</p> <p>в) руками прикрыть голову;</p> <p>г) руками упереться в спинку переднего сидения;</p> <p>д) упереться ногами в спинку переднего сидения.</p>	3	2
19.	<p>Основными поражающими факторами цунами являются:</p> <p>а) наводнение;</p> <p>б) разрыв статического электричества;</p> <p>в) ударное воздействие волны;</p> <p>г) высокие приближающиеся водные потоки;</p> <p>д) разливание.</p>	3	3
20.	<p>Определите основные виды обеспечения аварийно-спасательных работ:</p> <p>а) кароульная служба;</p> <p>б) разведка;</p> <p>в) биологическая защита;</p> <p>г) химическая защита;</p> <p>д) метеорологическое обеспечение.</p>	2	1
	Итого жюри	Max 28	15

Баллы	
Максимально возможное количество баллов	Фактическое количество баллов, набранное участниками
150	61

Председатель:  Владислав Владиславович Костантинов

ЧЛЕНЫ ЖЮРИ:
 Черволинский Виталий Владимирович Долгова
 Зюкорова Александр Николаевич Афанасьев
 Петров Петр Викторович

Шифр 9-03

Ставропольский край
Муниципальный этап всероссийской олимпиады школьников
2019/2020 учебного года

ДЫ ШКОЛЬНИКОВ

НОСТИ 9-03

Экспертный тур					
5	7	8	9	10	
<u>8</u>	<u>15</u>	<u>15</u>	<u>15</u>	<u>15</u>	<u>15</u>

Работа по

ученика (цы) 9 класса
муниципального казённого общеобразовательного учреждения
«Средняя общеобразовательная школа №8»
Грачевского муниципального района






Щукина Валентина Степановна
(ФИО полностью)

Наставник Рудольф Константинович Герасимов
(ФИО полностью)

16 ноября 2019 года

НЕ В УСЛОВИЯХ ПРИРОДНОЙ СРЕДЫ
манипулирующему на руку человеку используются
те средства.

Установите соответствие между табельным средством
защиты:

Спасательный жилет	<input checked="" type="checkbox"/>
Носилки-волокуши	<input checked="" type="checkbox"/>
"Ковчег Александрова"	<input checked="" type="checkbox"/>
Надувная лодка-волокуша	<input checked="" type="checkbox"/>
Выдвижная лестница	<input checked="" type="checkbox"/>
Спасательный инвентарь	<input checked="" type="checkbox"/>
Спасательный круг	<input checked="" type="checkbox"/>
Спасательный зонт	<input checked="" type="checkbox"/>

Оценочные баллы: максимальный 8 баллов фактический 8 баллов

ТЕОРЕТИЧЕСКИЙ ТУР

Кодификатор участника	9-03
-----------------------	------

(Каждому участнику 8 баллов)

Вам предстоит выслушать теоретическое и тестовое задания.

- Выполните импрессионных заданий качественно, оформив ответ следующим образом:**
- не списать, внимательно прочтите задание и определите, наиболее верный и полный ответ;
 - отвечая на теоретический вопрос, объясните и сформулируйте конкретный ответ только на поставленный вопрос;
 - если вы отвечаете на задание, связанное с заполнением таблицы или схемой, то старайтесь детализировать информацию, указывайте только те сведения или данные, которые указаны в вопросе;
 - особое внимание обратите на задания, в выполнении которых требуется выразить ваше мнение с учетом конкретной ситуации или поставленной проблемы. Внимательно и адекватно определите смысл вопроса и логику ответа (последовательность и точность изложения). Отвечая на вопрос, предлагайте свой вариант решения проблемы, при этом ответ должен быть кратким, но содержать необходимую информацию;
 - после выполнения всех предложенных заданий еще раз удостоверьтесь в правильности выбранных вами ответов и решений

Выполните аксиомных заданий качественно, оформив ответ следующим образом:

- не списать, внимательно прочтите тестовое задание;
 - определите, какой (какие) из предложенных вариантов ответа наиболее верный (верные) и полный (полные);
 - обведите кружком букву, соответствующую выбранному ответу;
 - продолжайте таким образом работу до завершения выполнения тестовых заданий;
 - после выполнения всех предложенных заданий еще раз удостоверьтесь в правильности выбранных ответов;
 - если потребуется корректировка выбранного варианта ответа, то исправленный вариант ответа эскизно крестиком, а новый выбранный ответ обведите кружком.
- Обратите Ваше внимание на то, что:**
- при оценке тестовых заданий, где необходимо определить один правильный ответ, 0 баллов выставляется как за неверный ответ, а также, если отмечены несколько ответов (в том числе правильных), или все ответы;
 - при оценке тестовых заданий, где необходимо определить все правильные ответы, 0 баллов выставляется, если отмечены больше ответов, чем необходимо, или все ответы (в том числе правильные).

Задание теоретического тура считается выполненным, если Вы вовремя скажете его членам жюри.

Желаем вам успеха!

Общая оценка результата участника	266	баллов
Подпись жюри	<i>В. В. В.</i>	

1. ВЫЖИВАНИЕ В УСЛОВИЯХ ПРИРОДНОЙ СРЕДЫ

ЗАДАНИЕ 1. При оказании помощи прональзывшемуся на льду человеку используются как табельные, так и подручные средства.


При помощи стрелок установите соответствие между табельными средствами оказания помощи и его названием:

		Спасательный жилет
		Носилки-волокуши
		"Ковш Александарова"
		Надувная лодка-волокуша
		Выдвижная лестница
		Спасательный инвентарь
		Спасательный к риг
		Спасательный валик

Оценочные баллы: максимальный 8 баллов фактически 8 баллов

ЗАДАНИЕ 2. Картографические условные знаки - система символических графических обозначений, применяемая для изображения на картах различных объектов и явлений, их качественных и количественных характеристик.

Дайте название условным знакам топографических карт отдельных местных предметов.

	церковь
	радиотанки и электротанки
	автономный центр
	заповедник
	
	будка
	помещение
	однокольное колёсное дерево

Оценочные баллы: максимальный 16 баллов фактический 12 баллов

2. ЕДИНАЯ ГОСУДАРСТВЕННАЯ СИСТЕМА ПРЕДУПРЕЖДЕНИЯ И ЛИКВИДАЦИИ ЧРЕЗВЫЧАЙНЫХ СИТУАЦИЙ

ЗАДАНИЕ 1. Единая государственная система предупреждения и ликвидации чрезвычайных ситуаций (РСЧС) предназначена для предупреждения и ликвидации чрезвычайных ситуаций техногенного, природного и экологического характера, а в условиях ведения боевых действий и вследствие этих действий (при определенных структурных изменениях) - и для решения задач по защите населения и территорий от чрезвычайных ситуаций военного характера.

Ответьте на вопросы:

Вопрос 1. Почему возникла необходимость создания РСЧС, если существовала гражданская оборона (ГО)?

РСЧС была создана для устранения недостатков гражданской обороны (ГО).

Вопрос 2. Могут ли применяться Вооруженные Силы РФ для ликвидации последствий ЧС?

По закону РФ могут применяться Вооруженные Силы только при необходимости, в данном случае РФ имеет право применить силы.

Оценочные баллы: максимальный 8 баллов фактический 4 баллов

3. БЕЗОПАСНОСТЬ В СОЦИАЛЬНОЙ СРЕДЕ

ЗАДАНИЕ 1. Терроризм - это опаснейшее преступление против человечества, крайняя форма проявления насилия и жестокости в отношении человека или организации, а также уничтожение имущества и других материальных ценностей, действий, создающих опасность гибели людей либо причинения значительного имущественного ущерба.

Ответьте на вопросы. Что такое кибертерроризм?

Кибертерроризм - это комплекс методов и средств действий, которые могут нанести вред коммуникации и обществу. Чаще всего используется для решения проблем в киберпространстве.

Оценочные баллы: максимальный 10 баллов фактический 6 баллов

ЗАДАНИЕ 2. Перечислите особенности современной террористической деятельности в России.

1. Высокий уровень подготовки и компетенции.

2. Высокий уровень осведомленности

3. В перерывы между консультациями будут идти ранее судимые и знакомые с методами работы полиции

4. Ведение наблюдений

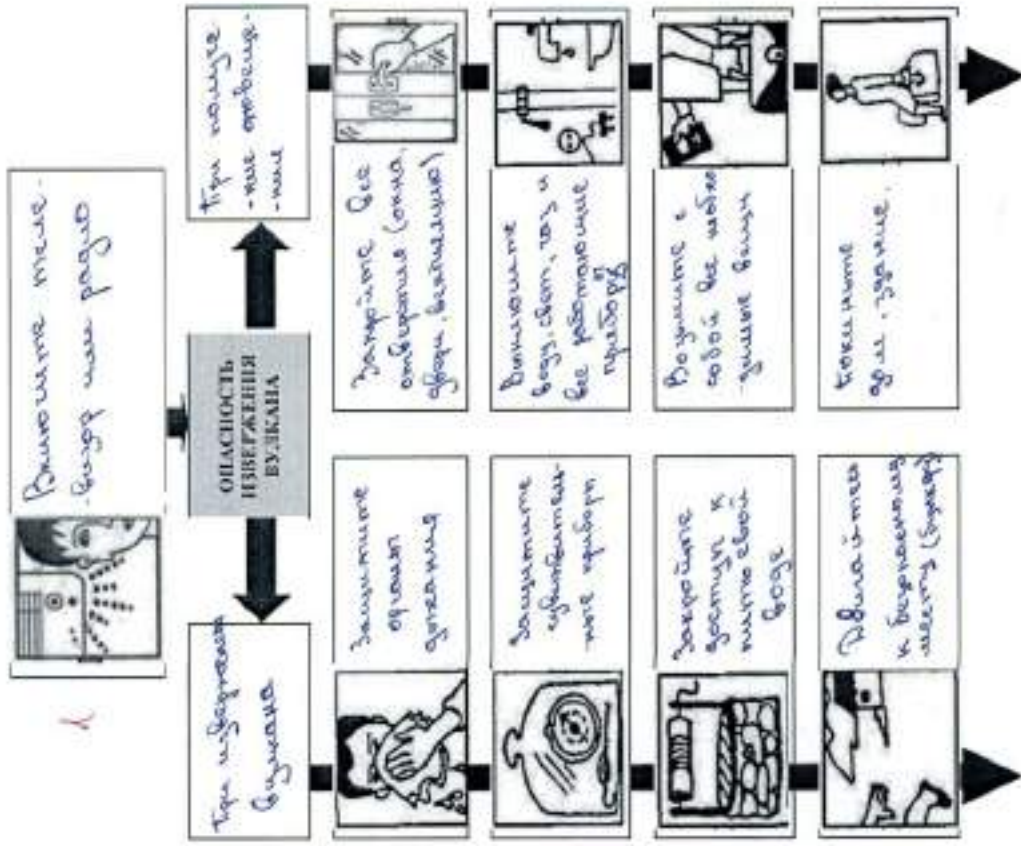
5. Непредвидимое поведение, которое обуславливает тактику действий

Оценочные баллы: максимальный 12 баллов фактический 10 баллов

4. ЧРЕЗВЫЧАЙНЫЕ СИТУАЦИИ ПРИРОДНОГО И ТЕХНОГЕННОГО ХАРАКТЕРА








ЗАДАНИЕ 1. Человечество в процессе развития цивилизации регулярно сталкивается с различными опасными явлениями и чрезвычайными ситуациями.

Заполните схему действий при получении сигнала "Помогите всем!"



Оценочные баллы: максимальный 11 баллов фактический 11 баллов

ЗАДАНИЕ 2. Назовите правила поведения пассажира при возникновении пожара в общественном транспорте, вспоминаясь на приведенных в таблице изображениях:

	1	Используйте огнетушитель через дверь.
	2	Защитите органы дыхания;
	3	Работайте спешно с помощью специально подготовленного материала (он есть во всех обществ. транспорте).
	4	Помогите выдвинуть из автобуса детей, беременных и пожилых. Выходите в порядке очереди;
	5	Отойдите от автобуса как можно дальше;
	6	Используйте в автобусе безопасности. Воздержитесь от разговора;
	7	Помогите раненым и пострадавшим.

Оценочные баллы: максимальный 14 баллов фактический 14 баллов

Тестовые задания

№ вопроса	Тестовые задания	Макс. балл	Кол-во набранных баллов
1.	<p>В зависимости от обстановки и масштаба ЧС устанавливается один из следующих режимов функционирования РСЧС:</p> <p>а) принонормальная обстановка;</p> <p>б) повышенной готовности;</p> <p>в) оперативного реагирования.</p>	1	1
2.	<p>Современный город с количеством жителей 200 тыс. чел. относится к категориям:</p> <p>а) малых;</p> <p>б) средних;</p> <p>в) больших;</p> <p>г) крупных.</p>	1	0
3.	<p>Определите класс лесного пожара, если огнем охвачено 100 га леса:</p> <p>а) катастрофический пожар;</p> <p>б) средний пожар;</p> <p>в) небольшой пожар;</p> <p>г) крупный пожар.</p>	1	1
4.	<p>По результатам подсчетов на побережье (выгнугде интенсивности) туманы оценивают по условиям:</p> <p>а) 6-бальной шкале;</p> <p>б) 8-бальной шкале;</p> <p>в) 10-бальной шкале;</p> <p>г) 12-бальной шкале.</p>	1	0
5.	<p>Федеральный закон в России, определяющий правовые и организационные нормы в области защиты от чрезвычайных ситуаций, называется:</p> <p>а) «О безопасности»;</p> <p>б) «О защите населения и территорий от чрезвычайных ситуаций природного и техногенного характера»;</p> <p>в) «Об обороне».</p>	1	1
6.	<p>В корпусе 2-го этажа школы, в коридоре для мусора, стоящей</p>	1	

	<p>недалеко от подоконника, испускал огонь. Какими будут Ваши действия?</p> <p>а) швырнуть корзину для мусора плотной тканью;</p> <p>б) выбросить корзину для мусора в окно;</p> <p>в) попытаться перевернуть корзину для мусора.</p>		1	1
7.	<p>Чему может способствовать высокая плотность застройки города?</p> <p>а) разрушительному действию аэриал;</p> <p>б) развитию местного пожара;</p> <p>в) развитию крупномасштабной катастрофы;</p> <p>г) образованию сплошных пожаров.</p>		1	0
8.	<p>Первые признаки наркотического опьянения:</p> <p>а) повышение мышечного тонуса, покраснение кожи;</p> <p>б) беспривный смех, кровотечение из носа;</p> <p>в) пороть ю рту, покраснение кожи, тошнота и рвота.</p>		1	1
9.	<p>Наиболее опасным периодом суток свежих льдин считается:</p> <p>а) период после выпадения осадков зимой;</p> <p>б) период с 10-00 час утра до захода солнца весной и летом;</p> <p>в) период с 14-00 час до захода солнца зимой и осенью.</p>		1	1
10.	<p>В случае эвакуации из зоны аварии на химически - опасном объекте с выбросом АХОВ прибавь на место размещения, в первую очередь необходимо:</p> <p>а) промывать глаза, прополоскать рот, пройти на пункт питания, исключить какие-либо физические нагрузки и лечь-отдыхать;</p> <p>б) немедленно дезинтегрироваться, затем сменить одежду, вытереть обувь, пройти в здание и умыться;</p> <p>в) снять верхнюю одежду, промывать глаза, прополоскать рот, принять душ с мылом.</p>		1	0
11.	<p>Для безопасной работы на компьютере необходимо:</p> <p>а) своевременно удалять пыль с монитора, источник света за монитором; работать не больше 25 минут непрерывно;</p> <p>б) верхний свет должен быть ярким; кресло, диван должны размещаться не ближе 1-1,5 м; работать не больше 4 часов в день;</p> <p>в) своевременно удалять пыль с монитора, источник света справа от монитора; работать не больше 3,5 минут непрерывно.</p>		1	0

12.	<p>Определите действия, не относящиеся к правилам поведения при захвате в заложники:</p> <p>а) по возможности располагаться поближе к окну или двери, подальше от преступника;</p> <p>б) на совершение любых действий (сесть, встать, попить и т.д.) спрашивать разрешения;</p> <p>в) для поддержания сил спать все, что нам предлагают.</p>	1	1
13.	<p>В солнечный полдень тень указывает направление на:</p> <p>а) юг;</p> <p>б) север;</p> <p>в) запад;</p> <p>г) восток.</p> <p>Укажите правильный ответ.</p>	1	1
14.	<p>Укажите, к каким последствиям в организме приводит недостаток железа в пивне:</p> <p>а) к нарушению осанки;</p> <p>б) к малокровию;</p> <p>в) к нарушению костной ткани.</p>	1	1
15.	<p>Многолетние исследования специалистов в разных странах мира показали, что здоровье человека на 50% полностью зависит от:</p> <p>а) образа жизни;</p> <p>б) экологических факторов;</p> <p>в) состояния муниципального обслуживания населения;</p> <p>г) наследственности.</p>	1	1
16.	<p>Определите все правильные ответы</p> <p>Признаки 2-й степени термического ожога является:</p> <p>а) покрас мышечной ткани;</p> <p>б) частичное обугливание кожи;</p> <p>в) образование пузырей;</p> <p>г) обильные пузыри;</p> <p>д) чувство жжения.</p>	2	2
17.	<p>О том, что консервы испорчены, могут говорить следующие признаки:</p>	3	

	<p>в) вздутая крышка;</p> <p>б) бульканье;</p> <p>а) просрочен срок годности;</p> <p>г) ржавчина на банке;</p> <p>д) не герметичность упаковки.</p>		2
18.	<p>Что надо делать для принятия безопасного положения при аварийной посадке самолета? Выберите из предлагаемых вариантов один дальнейшее действие и определите их очередность:</p> <p>а) согнуть тело и наклонить голову как можно ниже;</p> <p>б) руки сложить на живот;</p> <p>в) руками прикрыть голову;</p> <p>г) руками упереться в спинку переднего сидения;</p> <p>д) упереться ногами в спинку переднего сидения.</p>		3
19.	<p>Основными поражающими факторами шума являются:</p> <p>а) наводнение;</p> <p>б) резкая статического электричества;</p> <p>в) ударное воздействие волны;</p> <p>г) ионные пранающиеся водные потоки;</p> <p>д) резкая перемена.</p>		3
20.	<p>Определите основные виды обеспечения аварийно-спасательных работ:</p> <p>а) аварийная служба;</p> <p>б) разведка;</p> <p>в) биологическая защита;</p> <p>г) химическая защита;</p> <p>д) метеорологическое обеспечение.</p>		2
Члены жюри			1
			28

Баллы	
Максимально возможное количество баллов	Фактическое количество баллов, набранное участником
150	116

Преподаватель: _____ Рагулянский Владислав Константинович

ЧЛЕНЫ ЖЮРИ:

Червоцкий Виталий Владимирович
 Довганец Константин Георгиевич
 Данилов Алексей Николаевич
 Афанасьев Петр Викторович

Шифр 9-02

Ставропольский край
Муниципальный этап всероссийской олимпиады школьников
2019/2020 учебного года

Работа по

ученика (цы) 9 класса
муниципального казенного общеобразовательного учреждения
«Средняя общеобразовательная школа №2»
Греческого муниципального района

Варковой Марины Александровны
(ФИО полностью)

Наставник Добряков Валентин Юрьевич
(ФИО полностью)

16 ноября 2019 года

Ы ШКОЛЬНИКОВ

ОСТИ 9-02

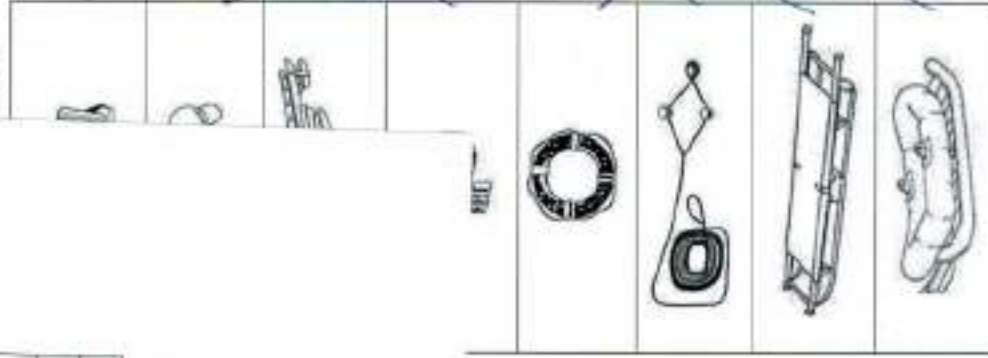
ий тур

7	8	9	10
15	15	15	15

МНЕ В УСЛОВИЯХ ПРИРОДНОЙ СРЕДЫ

и помощи проанализируем на лесу человеку используются
чные средства.

ок установите соответствие между табельным средством
ванием:



Складчатый жезл
Носовые-волокуши
"Конец Александрова"
Надувная лопка-волокуша
Выдвижная лестница
Складчатый пилорама
Складчатый к рун
Складчатый валик

Оценочные баллы: максимальный 8 баллов фактический 8 баллов

**СТАВРОПОЛЬСКИЙ КРАЙ
МУНИЦИПАЛЬНЫЙ ЭТАП ВСЕРОССИЙСКОЙ ОЛИМПИАДЫ ШКОЛЬНИКОВ
2019/20 УЧЕБНОГО ГОДА**

16 ноября 2019 года

ОСНОВЫ БЕЗОПАСНОСТИ ЖИЗНЕДЕЯТЕЛЬНОСТИ 9-02

Класс	Всего баллов	Количество баллов за задание												
		Теоретический тур					Практический тур							
		Задания					Тесты							
9	20	19	16	20	20	22	15	15	15	10	15	15	15	15

ПРЕДСЕДАТЕЛЬ: Ратушинский Владислав Константинович
ЧЛЕНЫ ЖЮРИ: Червонаяцкий Виталий Владимирович
 Довганев Константин Георгиевич
 Звонорев Алексей Николаевич
 Афанасьев Петр Викторович

- выбранных нами ответов и решений.
- Выполните все вопросы задания кроссвордом следующим образом:**
- не спеша, внимательно прочтите текстове задания;
 - определите, какой (какие) из предложенных вариантов ответа наиболее верный (верные) и запишите (пишите);
 - обведите кружком букву, соответствующую выбранному ответу;
 - продолжайте таким образом работу до завершения выполнения тестовых заданий;
 - после выполнения всех предложенных заданий еще раз удостоверьтесь в правильности выбранных ответов;
 - если требуется корректировка выбранного варианта ответа, то исправляемый вариант ответа зачеркните крестиком, а новый выбранный ответ обведите кружком.
- Обратите Ваше внимание на то, что:**
- при оценке тестовых заданий, где необходимо указать один правильный ответ, 0 баллов выставляется как за неверный ответ, а также, если отмечены несколько ответов (в том числе правильных), или все ответы;
 - при оценке тестовых заданий, где необходимо определить все правильные ответы, 0 баллов выставляется, если отмечены больше ответов, чем необходимо, или все ответы (в том числе правильные).
- Задание теоретического тура считается выполненным, если Вы уверены в правильности своего ответа.**
- Желаем вам успеха!*

Общая оценка результата участника 264 баллов
 Подпись жюри: Афанасьев

МНЕ В УСЛОВИЯХ ПРИРОДНОЙ СРЕДЫ

с помощью проваляющегося на льду человека используются специальные средства.
 Как установить соответствие между табельным средством и названием:

	Спасательный жилет
	Несила-волокуша
	"Косил Александрова"
	Надувная лодка-волокуша
	Выдвижная лестница
	Спасательный парашют
	Спасательный к ру
	Спасательный манок

Оценочные баллы: максимальный 8 баллов фактически 8 баллов

СТАВРОПОЛЬСКИЙ КРАЙ
МУНИЦИПАЛЬНЫЙ ЭТАП ВСЕРОССИЙСКОЙ ОЛИМПИАДЫ ШКОЛЬНИКОВ
2019/20 УЧЕБНОГО ГОДА
ОСНОВЫ БЕЗОПАСНОСТИ ЖИЗНЕДЕЯТЕЛЬНОСТИ
9 класс

ТЕОРЕТИЧЕСКИЙ ТУР

Код/номер участника
9-02

Уважаемые участники! Сделайте!

Вам предстоит выполнить теоретические и тестовые задания.

Выполните теоретические задания следующим образом:

- не списывайте, внимательно прочитайте задание и определите, наиболее верный и полный ответ;
- отвечая на теоретический вопрос, обдумайте и сформулируйте конкретный ответ только на поставленный вопрос;

• если вы отвечаете на задание, связанное с заполнением таблицы или схемы, не старайтесь детализировать информацию, указывайте только те сведения, которые указаны в вопросе;

- особое внимание обратите на задания, в выполнении которых требуется выразить ваше мнение с учетом мнения организатора или поставленной проблемы. Внимательно и аккуратно определите смысл вопроса и форму ответа (последовательность и точность изложения). Отвечая на вопрос, представляйте свой вариант решения проблемы, при этом ответ должен быть кратким, но содержать необходимую информацию;

• после выполнения всех предложенных заданий еще раз удостоверьтесь в правильности выбранных вами ответов и решений.

Выполните тестовые задания следующим образом:

- не списывайте, внимательно прочитайте тестовое задание;
- определите, какой (какие) из предложенных вариантов ответов наиболее верный (верные) и полный (полные);
- обведите кружком букву, соответствующую выбранному ответу;
- продолжайте таким образом работу до завершения выполнения тестовых заданий;
- после выполнения всех предложенных заданий еще раз удостоверьтесь в правильности выбранных ответов;

• если требуется корректировка выбранного варианта ответа, то неправильный вариант ответа зачеркните крестиком, а новый выбранный ответ обведите кружком.

Обращаем Ваше внимание на то, что:

- при оценке тестовых заданий, где необходимо определить один правильный ответ, 0 баллов выставляется как за неверный ответ, а также, если отмечены несколько ответов (в том числе неправильный), или же ответы;
- при оценке тестовых заданий, где необходимо отметить все правильные ответы, 0 баллов выставляется, если отмечены больше ответов, чем необходимо, или же ответы (в том числе правильные).

Задание теоретического тура считается выполненным, если Вы ответили слаге его членам жюри.

Желаем вам удачи!

Общая оценка результатов участника	66/100 баллов
Подпись жюри	<i>В. В. В. В. В. В.</i>

1. ВЫЖИВАНИЕ В УСЛОВИЯХ ПИРИВОДНОЙ СРЕДЫ

ЗАДАНИЕ 1. При оказании помощи провалившемуся на льду человеку используются как табельные, так и подручные средства.

При помощи стрелок установите соответствие между табельным средством оказания помощи и его названием:

	Спастический жилет
	Носилки-волокуши
	"Конак Александрия"
	Надувная лодка-волокуша
	Выдвижная лестница
	Спастический штурман
	Спастический к ру
	Спастический плащ

Оценочные баллы: максимальный 8 баллов фактический 8 баллов

ЗАДАНИЕ 2. Картографические условные знаки - система символических графических обозначений, применяемая для изображения на карте различных объектов и явлений, их качественных и количественных характеристик.

Дайте названия условным знакам топографических карт отдельных местных предметов.

	церковь
	разростанция
	
	заплата
	мост
	
	наметки
	дерво

Оценочные баллы: максимальный 16 баллов фактический 12 баллов

2. ЕДИНАЯ ГОСУДАРСТВЕННАЯ СИСТЕМА ПРЕДУПРЕЖДЕНИЯ И ЛИКВИДАЦИИ ЧРЕЗВЫЧАЙНЫХ СИТУАЦИЙ

ЗАДАНИЕ 1. Единая государственная система предупреждения и ликвидации чрезвычайных ситуаций (РСЧС) предназначена для предупреждения и ликвидации чрезвычайных ситуаций техногенного, природного и экологического характера, а в условиях ведения боевых действий и в результате этих действий (при определенных структурных изменениях) - и для решения задач по защите населения и территорий в чрезвычайных ситуациях военного характера.

Ответьте на вопросы:

Вопрос 1. Почему возникла необходимость создания РСЧС, если существовала гражданская оборона (ГО)?

1. Обозначены Федеральное агентство по гражданской обороне, защите населения и территорий от чрезвычайных ситуаций

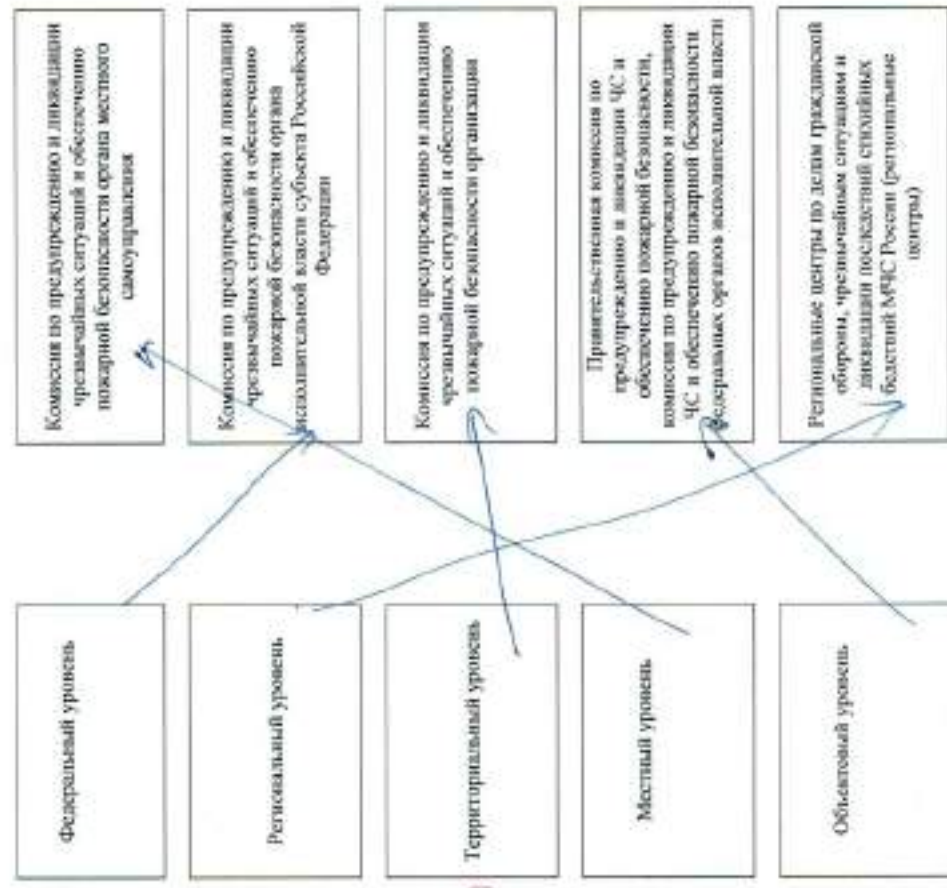
Вопрос 2. Могут ли применяться Вооруженные Силы РФ для ликвидации последствий ЧС?

1. да

Оценочные баллы: максимальный 8 баллов фактический 4 баллов

ЗАДАНИЕ 2. На каждом уровне РСЧС существуют координационные органы, постоянно действующие органы управления, органы повседневного управления, силы и средства, резервы финансовых и материальных ресурсов, системы связи, обеспечения и информационного обеспечения.

Соотнесите стрелками уровень РСЧС с координирующими органами управления.



Оценочные баллы: максимальный 10 баллов фактический 6 баллов

ЗАДАНИЕ 3. Выпишите в таблицу режимы функционирования РСЧС в условиях их функционирования.

Наименование режима	Условия функционирования или введения
Режим повседневной деятельности	<i>Нормальная обстановка Жизнедеятельность Без чрезвычайных ситуаций, напряженных обстановок</i> 3
<i>Режим пов. обстановки</i> 3	Функционирующие системы при ухудшении производственной, гражданской, радиационной, морской, биологической (бактериологической), сейсмической, гидрометеорологической обстановки и при получении прогноза о возможности возникновения чрезвычайных ситуаций, а также в условиях военной опасности.
Режим чрезвычайной ситуации	<i>При 22 - боевые действия</i> 3

Оценочные баллы: максимальный 9 баллов фактический 9 баллов

3. БЕЗОПАСНОСТЬ В СОЦИАЛЬНОЙ СРЕДЕ

ЗАДАНИЕ 1. Терроризм - это опаснейшее преступление против человечества, крайняя форма проявления насилия и жестокости в отношении человека или организации, а также уничтожение имущества и других материальных ценностей, действий, создающих опасность гибели людей либо причинения значительного имущественного ущерба.

Ответьте на вопрос. Что такое кибертерроризм?

Кибертерроризм - это вынужденность
в немотивированно само

Оценочные баллы: максимальный 10 баллов фактически 10 баллов

ЗАДАНИЕ 2. Перечислите особенности современной террористической деятельности в России.

1. Стороны уязвим кораблям 2

2. Высокий уровень расхищенности 2

Оценочные баллы: максимальный 12 баллов фактически 6 баллов

3. Вокруги в сфере безопасности
адреса или имени судимых,
которые связаны с собой
2. РАБОТА ВОЛОНТЕР

4.

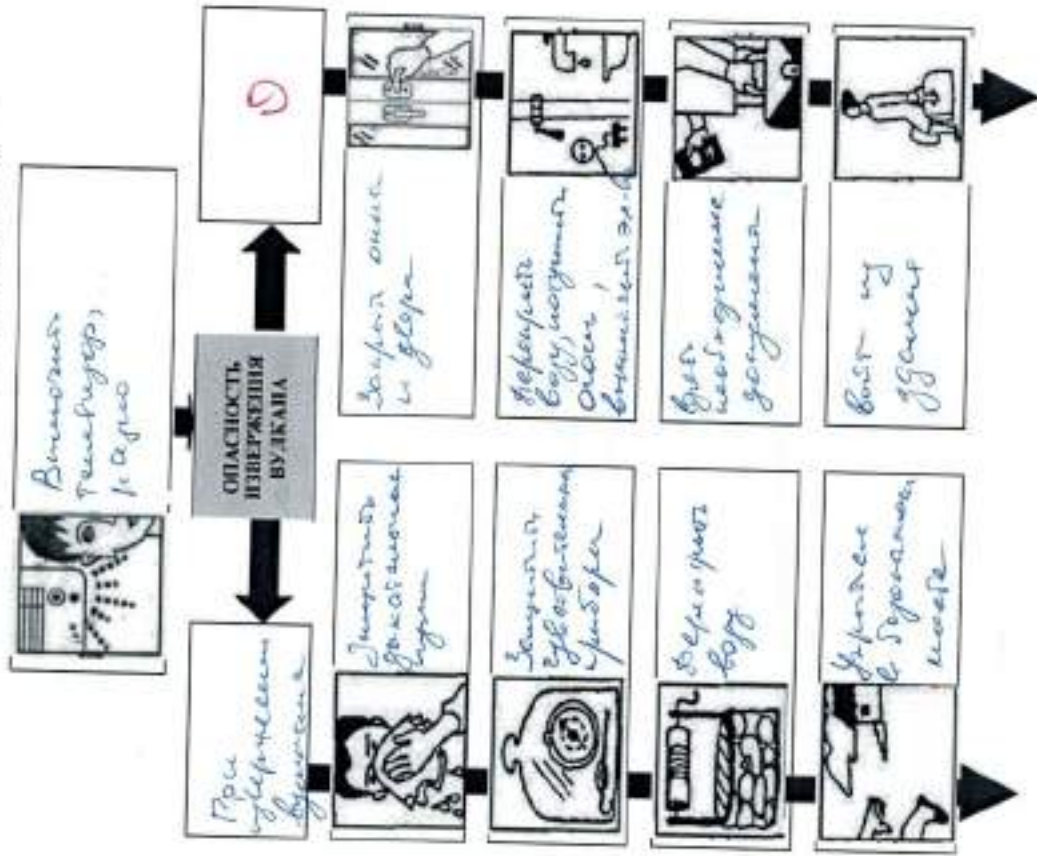
5.

6.

4. ЧРЕЗВЫЧАЙНЫЕ СИТУАЦИИ ПРИРОДНОГО И ТЕХНОГЕННОГО ХАРАКТЕРА

ЗАДАНИЕ 1. Человечество в процессе развития цивилизации регулярно сталкивается с различными опасными явлениями и чрезвычайными ситуациями.

Заполните схему действий при получении сигнала "Внимание всем!"



Оценочные баллы: максимальный 11 баллов фактический 10 баллов

ЗАДАНИЕ 2. Изложите правила поведения пассажира при возникновении пожара в общественном транспорте, основываясь на приведенных в таблице изображениях:

	Не паниковать	0
	Замкнуть глаза и закрыть рот	2
	Замкнуть глаза и закрыть рот	2
	Внимательно	0
	Онайти в аварийном порядке с транспортом	2
	Вызвать пожарника	2
	Вызвать пожарника	2

Оценочные баллы: максимальный 14 баллов фактический 10 баллов

5. ПОЖАРНАЯ БЕЗОПАСНОСТЬ

ЗАДАНИЕ 1. Пожарная безопасность - состояние защищённости личности, имущества, общества и государства от пожаров.

Спускаясь в лифте с 10-го этажа Вы почувствовали резкий запах, появился дым. Что вы сделаете немедленно? Ответьте на вопрос и запишите в таблицу последовательность номеров всех правильных действий при пожаре:

1. Вызовите пожарную охрану.
2. Попытайтесь остановить лифт на ближайшей этаже и выйти из него.
3. Немедленно сообщите об этом диспетчеру, нажав кнопку "Вызов" в кабине, дождитесь остановки лифта.
4. Используйте сухой песок или углекислотный огнетушитель, приступайте к тушению пожара.
5. Займите в кабину и будете тушить пожар.
6. После выхода из лифта заблокируйте двери, чтобы никто не смог войти лифт.
7. Нажмите кнопку "Стоп", а затем кнопку своего этажа.
8. Если это не поможет, попытайтесь потушить пожар во время стояния в кабине.
9. Присядьте на пол и будете тушить пожар.
10. Если лифт движется, не останавливайте его сами, дождитесь остановки.

2	2	2	2	2	2				
3	1	6	1	8	4				

Оценочные баллы: максимальный 12 баллов фактический 12 баллов

ЗАДАНИЕ 2. Заполните таблицу. Назовите группу знаков безопасности и смысловое значение:

Группа	Геометрическая форма	Символический цвет	Смысловое значение
Запрещенные	Круг с наперсочной желтой	Красный	2
Предупреждающие	Треугольник	Желтый	2
	Круг	Синий	0
	Квадрат или прямоугольник	Красный	0
Нельзя	Квадрат или прямоугольник	Зеленый	2
Указание	Квадрат или прямоугольник	Синий	2

Оценочные баллы: максимальный 12 баллов фактический 8 баллов

Тестовые задания

№ п/п	Тестовые задания	Макс балл	Кол-во набранных баллов
<i>Определите один правильный ответ</i>			
1.	<p>В зависимости от обстановки и масштаба ЧС устанавливаются один из следующих режимов функционирования РСЧС:</p> <p>а) прогнозирована обстановка; б) повышенная деятельность; в) сверхштатного реагирования.</p>	1	1
2.	<p>Современный город с количеством жителей 200 тыс. чел. относится к категориям:</p> <p>а) малых; б) средних; в) больших; г) крупных.</p>	1	1
3.	<p>Определите класс лесного пожара, если огонь охватил 100 га леса:</p> <p>а) катастрофический пожар; б) средний пожар; в) небольшой пожар; г) крупный пожар.</p>	1	0
4.	<p>По результатам обследования на побережье (нагнугле и тесновости) купания оценивают по условиям:</p> <p>а) «б-большой шале»; б) «8-большой шале»; в) «10-большой шале»; г) «12-большой шале».</p>	1	0
5.	<p>Федеральная закон в России, определяющий правовые и организационные нормы в области защиты от чрезвычайных ситуаций, называется:</p> <p>а) «О безопасности»; б) «О защите населения и территорий от чрезвычайных ситуаций природного и техногенного характера»; в) «Об обороне».</p>	1	1
6.	<p>В коридоре 2-го этажа школы, в коридоре для мусора, стоящей</p>	1	

	<p>недалеко от подоконника, испытываю огонь. Какими будут Ваши действия?</p> <p>а) закрыть коридор для мусора плотной тканью; б) выбросить корзину для мусора в окно; в) попытаться перевернуть корзину для мусора.</p>	1	1
7.	<p>Чему может способствовать высокая плотность застроенной территории?</p> <p>а) рециркуляционному действию крыши; б) разлито местного воздуха; в) надпочув а радиолокационная катетории; г) образованию сплошных пожаров.</p>	1	1
8.	<p>Первые признаки наркотического отравления:</p> <p>а) охладение кожного тонуса, покраснение кожи; б) беспрерывный смех, кровоотечание из носа; в) горечь во рту, покраснение коки, тошнота и рвота.</p>	1	1
9.	<p>Наиболее опасным периодом стога снежных лавин считается:</p> <p>а) период после выпадения осадков зимой; б) период с 10-00 чде утра до захода солнца весной и летом; в) период с 14-00 час до захода солнца зимой и осенью.</p>	1	0
10.	<p>В случае эвакуации из зоны аварии на химическа - опасном объекте с прибором АХОЕ прибыть на место размещения, в первую очередь необходимо:</p> <p>а) промыть глаза, прополоскать рот, пройти на пункт питания, исключить классе-либо физические нагрузки и жечь отдыхать; б) немедленно зарегистрироваться, затем сменить одежду, вытереть обувь, пройти в здание и умыться; в) снять верхнюю одежду, промыть глаза, прополоскать рот, принять душ с мылом.</p>	1	0
11.	<p>Для безопасной работы на компьютере необходимо:</p> <p>а) своевременно удалять пыль с монитора, источник света за монитором, работать не более 25 минут непрерывно; б) первый свет должен быть ярким, красное, экран должен размещаться не более 1-1,5 м, работать не более 4 часов в день; в) своевременно удалять пыль с монитора, источник света справа от монитора, работать не более 35 минут непрерывно.</p>	1	1

12.	<p>Определите действие, не относящееся к правилам поведения при захвате в заложники:</p> <p>а) по возможности располагаться поближе к окну или двери, подальше от проступинцев;</p> <p>б) на совершение любых действий (сесть, встать, пожать и т.д.) спрашивать разрешения;</p> <p>в) для поддержания сил съесть все, что вам предлагают.</p>	1	9
13.	<p>В солнечный полдень тень указывает направление на:</p> <p>а) юг;</p> <p>б) север;</p> <p>в) запад;</p> <p>г) восток.</p> <p>Укажите правильный ответ.</p>	1	1
14.	<p>Укажите, к каким последствиям в организме приводит недостаток железа в крови:</p> <p>а) к нарушению осанки;</p> <p>б) к малокровию;</p> <p>в) к нарушению костной ткани.</p>	1	1
15.	<p>Многолетние исследования специалистов в разных странах мира показали, что зрение человека на 50% полностью зависит от:</p> <p>а) образа жизни;</p> <p>б) экологических факторов;</p> <p>в) состояния мультимедийного обслуживания населения;</p> <p>г) влажности.</p>	1	0
<i>Определите все правильные ответы</i>			
16.	<p>Признаками 2-й степени термического ожога является:</p> <p>а) некроз мышечной ткани;</p> <p>б) частичное обугливание кожи;</p> <p>в) образование пузырей;</p> <p>г) обширные пузыри;</p> <p>д) чувство жжения.</p>	2	2
17.	<p>О том, что конверсы восточные, могут говорить следующие признаки:</p>	3	

	<p>а) доступ к крышам;</p> <p>б) булыжник;</p> <p>в) прощрен срок годности;</p> <p>г) ржавчина на банке;</p> <p>д) ее герметичность упаковки.</p>		3
18.	<p>Что надо делать для принятия безопасного положения при аварийной посадке самолета? Выберите из предложенных вариантов наши дальнейшие действия и определите их очередность:</p> <p>а) согнуть тело и наклонить голову как можно ниже;</p> <p>б) руки сложить на животе;</p> <p>в) руками прикрыть голову;</p> <p>г) руками упереться в спинку переднего сиденья;</p> <p>д) упереться ногами и спиной в заднего сидения.</p>	3	3
19.	<p>Основными поражающими факторами шума являются:</p> <p>а) звуковые;</p> <p>б) резкая статического электричества;</p> <p>в) ударное воздействие волны;</p> <p>г) высокие относительные влажность воздуха;</p> <p>д) разрывание</p>		5
20.	<p>Определите основные виды обеспечения аварийно-спасательных работ:</p> <p>а) каргупальная служба;</p> <p>б) диванка;</p> <p>в) биологическая защита;</p> <p>г) химическая защита;</p> <p>д) метеорологическое обеспечение.</p>	2	2
<i>Члены жюри</i>			
		max 28	

Баллы	
Максимально возможное количество баллов	Фактическое количество баллов, набранное участником
150	117

Председатель:  Ружниковский Владислав Константинович

ЧЛЕНЫ ЖЮРИ:  Артюхин Виталий Владимирович

 Долганов Константин Георгиевич

 Звонков Алексей Николаевич

 Афанасьев Петр Викторович