

Заполняется ПЕЧАТНЫМИ БУКВАМИ чернилами черного или синего цвета по образцам:

А	Б	В	Г	Д	Е	Ж	З	И	К	Л	М	Н	О	П	Р	С	Т	У	Ф	Х	Ц	Ч	Ш	Щ	Ъ	Ы	Ь	Э	Ю	Я	@	8	9	,
A	B	C	D	E	F	G	H	I	J	K	L	M	N	O	P	Q	R	S	T	U	V	W	X	Y	Z	1	2	3	4	5	6	7	0	.

ПРЕДМЕТ

И С Т О Р И Я

КЛАСС

8 А

ДАТА

17 . 11 . 2022

ШИФР УЧАСТНИКА

08-02

ФАМИЛИЯ

ГАБРИЕЛЯНА

ИМЯ

КАРЕНА

ОТЧЕСТВО

АРСЕНОВИЧА

Документ удостоверяющий личность

свидетельство о рождении

паспорт

Гражданство

Российская Федерация

серия 07 21

номер 89 94 57

Иное

Дата рождения 17 . 03 . 2008

Домашний телефон участника

+ 7

Мобильный телефон участника

+ 7 988 095 68 00

Электронный адрес участника

**МУНИЦИПАЛЬНЫЙ ЭТАП ВСЕРОССИЙСКОЙ ОЛИМПИАДЫ ШКОЛЬНИКОВ
2022/23 УЧЕБНОГО ГОДА**

ИСТОРИЯ

Предмет	Класс	Шифр	Количество баллов за задание									
			1 Задание	2 Задание	3 Задание	4 Задание	5 Задание	6 Задание	7 Задание	8 Задание	9 Задание	10 Задание
История	18-02	60	4	1	0	3	8	0	8	6	10	20

Председатель *Александр Александрович*
Члены комиссии *Степанов Р. Н.* *С. П.*
Степанов С. С.

Ставропольский край

Муниципальный этап всероссийской олимпиады школьников

2022/23 учебного года

История

7–8 класс

(максимальный балл за весь тур - 100)

(время выполнения – 180 минут)

Задача 1. Задание с выбором одного ответа из предложенных.

За каждое задание по 1 баллу. Максимальное количество баллов за все задания – 4 балла

1.1. Прочтите отрывок из сочинения историка и назовите князя, о котором идет речь.

«Еще при жизни матери, оставив на попечение Ольги Киевское княжество, князь совершил первые свои блестящие походы. Он пошел на Оку и подчинил вятичей, которые тогда платили дань хазарам, затем обратился на хазар и разгромил Хазарское царство, взял главные города хазар. Наконец, князь проник на Волгу, разорил землю камских болгар и взял их город Болгар. Словом, он победил и разорил всех восточных соседей Руси, вклавших в систему Хазарской державы. Главной силой в Причерноморье становится теперь Русь».

1. Игорь
2. Олег
3. Святослав
4. Владимир Мономах

1.2. Прочтите отрывок из сочинения историка В.О. Ключевского и назовите правителя, о котором идет речь.

«Свержение ита устранило политическое к тому препятствие, а брак с Софьей давал на то историческое оправдание: мог теперь считать себя единственным оставшимся в мире православным и независимым государем, какими были византийские императоры, и верховным властителем Руси. С конца XV в. на его печатях появляется византийский герб – двуглавый орел».

1. Иван III
2. Иван IV
3. Борис Годунов
4. Иван Калита.

1.3. Прочтите отрывок из книги современного историка и укажите, когда произошли описанные события.

«События развивались крайне неблагоприятно для Руси...орды, кочевавшие на огромном пространстве от Волги до Днестра, от верховьев Дона до Северного Кавказа и Крыма, пришли в движение. Вся неисчислимая рать Мамай собралась близ русской границы. Кочевники ждали прибытия союзников – Ягайлы и Олега Рязанского, чтобы всей массой обрушиться на Русь».

1. Перед битвой на реке Калке.
2. После «стояния» на реке Угре.
3. После Полтавской битвы.

4. Перед Куликовской битвой.

1.4. Крупнейший Золотоордынский город на Северном Кавказе, центр ремесла и торговли, располагавшийся на берегу реки Кумы (ныне территория г. Буденновск).

1. Маджар.
2. Семандер.
3. Тмутаракань.
4. Дорогостой.

Задача 2. По какому принципу образованы ряды?

За каждое задание 1 балл. Максимальное количество баллов за все задания – 2 балла.

- 2.1. Григорий Орфель, патриарх Гермоген, Иван Болотников, Прокопий Ляпунов.
- 2.2. Пересвет, Владимир Серпуховский, Дмитрий Боброк, Дмитрий Иванович.

Задача 3. Задания с выбором нескольких ответов из предложенных.

Выберите три ответа.

За полноту правительственных ответов 1 балл, при одной ошибке и более – 0 баллов. Максимальный балл за все задания – 3.

3.1. Выберите из списка три события, относящихся к правлению Ивана IV?

1. Присоединение Астрахани.
2. Присоединение Новгорода.
3. Появление книгопечатания в Москве.
4. Введение «заповедных лет».
5. Постройка краснокирпичного Московского Кремля.
6. Учреждение патриаршества в России.

3.2. Какие соответствия города и архитектурного памятника верны?

1. Владимир – Архангельский собор.
2. Москва – Дмитриевский собор.
3. Владимир – Успенский собор.
4. Новгород – Софийский собор.
5. Москва – Покрова на Нерли.
6. Киев – Золотые ворота.

3.3. Какой признак из перечисленного характеризует Владимиро-Суздальское княжество в XII–XIII вв.?

1. Верховной властью обладало вече.
2. Слабые вечевые традиции.
3. Верховная собственность великого князя на землю.
4. Признание князя на престоле по договору.
5. Непрочные позиции боярской знати.
6. Посадник – центральная фигура управления.

Задание 4. Задание на установление последовательности.

Запишите ответ в виде последовательности номеров событий в задании.

За каждую верною последовательность по 2 балла. Максимальный балл за все задания – 10 баллов.

4.1. Восстановите правильную хронологическую последовательность событий.

1. Получение Иваном Калитой ярлыка на великое княжение.
2. Поход Тохтамыша на Москву.
3. Ледовое побоище.
4. Битва на реке Калке.
5. Куликовская битва.

4, 3, 1, 2, 5

4.2. Расположите следующие территории в хронологической последовательности их присоединения к России.

1. Восточная Сибирь.
2. Псков.
3. Рязань.
4. Западная Сибирь.
5. Астраханское ханство.

2, 3, 5, 4, 1

4.3. Расположите названия памятников русской культуры в хронологической последовательности их появления.

1. Успенский собор во Владимиро-на-Клязьме.
2. Собор Василия Блаженного в Москве.
3. Церковь Покрова в Филях в Москве.
4. «Задонщина».
5. Софийский собор в Новгороде.

5, 4, 4, 3, 2

4.4. Расположите перечисленные исторические личности в хронологическом порядке их жизни и деятельности.

1. Елена Глинская.
2. Дмитрий Шемяка.
3. Ярослав Мудрый.
4. Андрей Боголюбский.
5. Юрий Долгорукий.

1, 4, 5, 1, 2

4.5. Расположите в хронологической последовательности исторические события.

1. Осада Пскова Стефаном Баторием.
2. Грюнвальдская битва.
3. Битва на реке Шелонь.
4. Разгром нечелетов Ярославом Мудрым.
5. Разгром Хазарского каганата.

Задание 5. Задание на соответствие.

Во втором перечне есть лишняя характеристика.

За полностью верный ряд – 4 балла, 3 балла при одной ошибке, 2 балла при двух ошибках, 1 балл при трех ошибках, 0 баллов при четырех и более ошибках. Максимальный балл за все задания – 16 баллов.

5.1. Установите соответствие между именами князей Древней Руси и закрепившимися за ними прозваниями в истории.

Имя	Назван в истории
1. Владимир	А. Окаянный
2. Святополк	Б. Мудрый
3. Ярослав	В. Красное Солнышко
4. Олег	Г. Старый
5. Игорь	Д. Вещий
	Е. Тишайший

5.2. Установите соответствие между терминами и их определениями.

Термин	Содержание термина
1. Барщина	А. Народное сказание о подвигах героев
2. Посад	Б. Совет знати в Великом княжестве Литовском
3. Рада	В. Феодальная повинность, заключавшаяся в обязанности зависимого крестьянина работать в хозяйстве и на поле феодала
4. Вылина	Г. Торгово-ремесленная часть города
5. Вогчина	Д. Земельное владение, передававшееся по наследству
	Е. Соседская община у восточных славян

5.3. Установите соответствие между памятниками культуры и их краткими характеристиками.

Памятник культуры	Характеристика памятника культуры
1. «Золотница»	А. Автор – Андрей Рублев.
2. «История о великом князе московском»	Б. Автор – Андрей Курбский
3. Икона «Троица»	В. Автор – Ф.С. Конаев
4. «Смоленский кремль»	Г. Данный памятник культуры посвящен событиям, произошедшим в XIV в.
5. Фрески Ферапонтова монастыря	Д. Автор – Дионисий
	Е. Данный памятник культуры создан в XVII в.

5.4. Установите соответствие между личностями и событиями.

Личности	События
1. Мстислав Удалой	А. Битва на реке Сить
2. Юрий Всеволодович	Б. Битва на реке Калка
3. Епифаний Коловрат	В. Разгром Батыем Рязанского княжества
4. Александр Ярославич	Г. Осада Киева Батыем
5. Воевода Дмитрий	Д. Битва на реке Неве
	Е. Освобождение от поляков в 1612 г.

Задание 6. Задание на работу с источником. Каким князем посвящены строки из «Слова о полку Игореве»? Своё мнение обоснуйте, заполните таблицу.

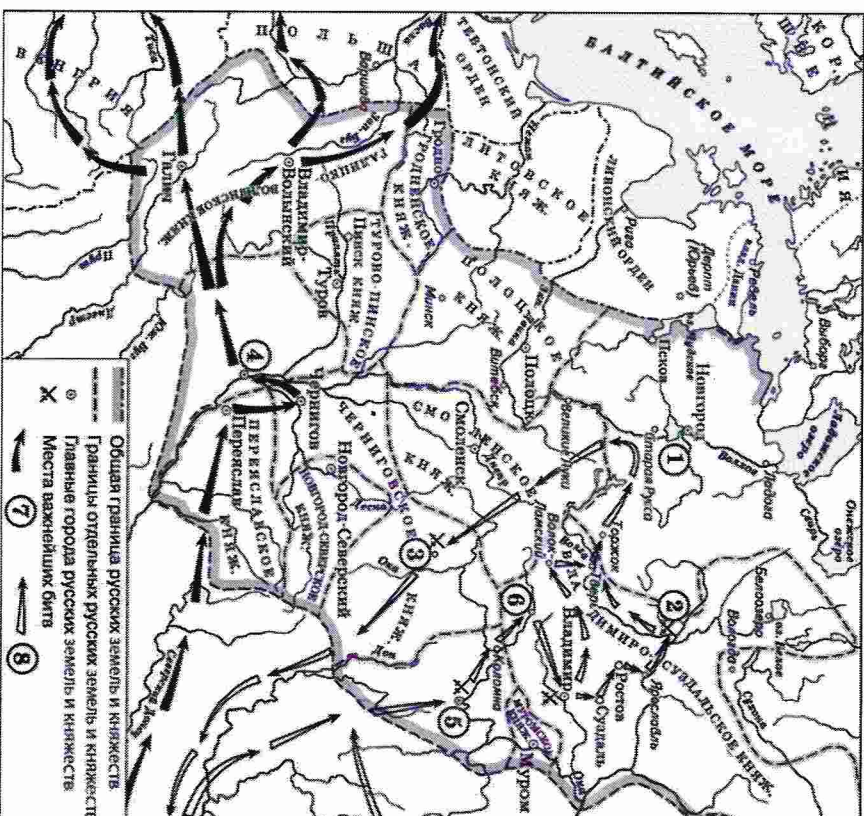
За правильно указанное князя по 1 баллу и по 1 баллу за верное обоснование. Максимальный балл — 8.

1. «Высоко ты сидишь на своем золотокованом престоле, подперев железными полками горы Венгерские, заступив королю путь, затворив Дунайя ворота...»
2. «Великий князь...! Не думаешь ли ты прилепеть издалека, отчий золотой престол поблисти? Ты ведь можешь Волгу веслами расплескать, а Дон шлемами вычерпать. Если бы ты был здесь, то была бы раба по ногате, а раб по резане».
3. «Стрель князю ум охватила, и желание отвелать Дон Великий заслонило ему презименование. «Хочу, сказаи, копье преломять на границе поле Полоняцкого, с ямид, русичи, хочу либо голову сложить, либо шлемом испить из Дона».

4. «Минули годы Ярославовы, были и войны...Тот вель [князь] Тмечом краному коваг и стрелы по земле сел... Тогда, при ... Гориславиче заседало и продастаго уособиани, потибаго достоиние Давыдбожьего внука, в княжеских кранолах сокращашилье жизни людокие. Тогда по Русской земле редко пахари покрывивали, но часто ворони граши, трупы между собой леги, а галки по-своему говорили».

Задание 7. Рассмотрите карту и ответьте на вопросы.



За верно отмеченные пункты 1,2,3,4,5, по 2 балла, зтем по 1 баллу за каждое верно сформулированное предложение. Максимальный балл — 13.



1. Укажите век, к которому относятся события, обозначенные на схеме стрелками. Ответ запишите словом. X VII
2. Укажите название города, обозначенного на схеме цифрой «3».
3. Назовите главнокомандующего, руководившего походом по направлению, обозначенному в легенде схемой цифрой «7».


4. Назовите время года, когда состоялось сражение, место которого обозначено на схеме цифрой «2».
 5. Какие суждения, относящиеся к данной схеме, являются верными? Укажите название города, обозначенного на схеме цифрой «6».
- Выберите три суждения из шести предложенных.
- 1) Цифрой «4» на схеме обозначен город, оборонной которого (в ходе событий, обозначенных на схеме стрелками) руководил воевода Дмитрий.
 - 2) Цифрой «5» на схеме обозначена Рязань.
 - 3) Стрелками, обозначенными в легенде схемы цифрой «8», показаны действия монгольских войск.
 - 4) Цифрой «2» на схеме обозначена река Калка.
 - 5) Боярин Епифаний Коловрат, прославившийся своей храбростью, был родом из города, обозначенного на схеме цифрой «1».
 - 6) Цифрой «5» на схеме обозначено место, где погиб великий князь Владимирский Юрий Всеволодович.

Задание 8. Какие из представленных памятников культуры были созданы в XVI веке?
За каждый правильно указанный храм по 2 балла. Максимальный балл - 8
Ответ запишите цифрами.



1.


2.




3.



4.



5.



6.

Задание 9. Задание на анализ документов.

За первые 5 верных ответов по 1 баллу. По 2 балла за каждое верно указанную причину пункта 6, всего — 6 баллов. Максимальный балл — 11.

Текст из исторического документа:

«В конце 1611 г. Московское государство, потеряв свой центр, стало распадаться на составные части... путь не каждый город действовал особняком, только пересылаясь с другими городами. Государство пресображалось в какую-то бесформенную, мятущуюся федерацию. Но с конца 1611 г., когда изнемогли политические силы, начинают пробуждаться силы религиозные и национальные, начинают пробуждаться силы религиозные, которые пошли на выручку гибнущей земле. Призванные грамоты архимандрита Дионисия и келаря Авраамия, расходящиеся из Троицкого монастыря, подняли нижегородцев под руководством их старосты мясника Кузьмы Минина. На призван нижегородцев стали стекаться оставшиеся без дела и жалованья, а часто и без поместий служивые люди, городовые дворяне и дети боярские, которым Минин нашел и вождя Дмитрия Михайловича Пожарского».

1. Какое название получили описываемый в приведенном фрагменте период в истории России (1 балл). *Смутное время*
2. Назовите последнего представителя династии Рюриковичей (1 балл). *Игорь Рюрикович*
3. В каком году пресеклась династия Рюриковичей (1 балл).
4. Кто возглавил первое народное ополчение (1 балл).
5. Назовите первого представителя династии Романовых (1 балл). *Михаил Федорович*
6. Укажите любые три причины периода, описываемого в документе (2 балла за каждую причину, всего до 6 баллов).

Задание 10. Эссе или развернутый письменный ответ. Развернутый ответ пишется по одной из выбранных тем. Максимальный балл – 25.

Выберите тему Вашего сочинения-эссе.

Ваша задача – сформулировать собственное отношение к данному утверждению и обосновать его аргументами, представляющими Вам наиболее существенными.

При выборе темы исходите из того, что Вы:

- 1) ясно понимаете смысл выбранной темы;
- 2) можете выразить своё отношение к выбранной теме;
- 3) располагаете конкретными знаниями (факты, статистические данные, примеры) по данной теме;
- 4) владеете терминами, необходимыми для грамотного изложения своей точки зрения.

При написании работы постарайтесь исходить из того, что жюри, оценивая Ваше эссе, будет руководствоваться следующими критериями:

1. Обоснованность выбора темы (объяснение выбора темы и задач, которые ставит перед собой в своей работе участник).
2. Творческий характер восприятия темы, ее осмысление.
3. Грамотность использования исторических фактов и терминов.
4. Четкость и доказательность основных положений работы.
5. Знание различных точек зрения по избранному вопросу.

Темы эссе:

1. Система управления Древнерусским государством.
2. Принятие христианства и начало становления Российской православной цивилизации.
3. Феодальная раздробленность на Руси: причины и последствия.
4. Формирование единого Российского государства в XV – первой трети XVI в.
5. Внешняя политика России во второй половине XVI века.
6. Реформа русской православной церкви. Раскол.
7. Азово-Моздокская линия и основание г. Ставрополя.

Ставропольский край

Муниципальный этап всероссийской олимпиады школьников

2022/23 учебного года

История

7-8 класс

(Максимальный балл за весь тур - 100)

(время выполнения - 180 минут)

Задание 1. Задание с выбором одного ответа из предложенных.
За каждое задание по 1 баллу. Максимальное количество баллов за все задания - 4 балла.

Ответ:

1.1	1.2	1.3	1.4
3	1	4	1

Задание 2. По какому принципу образованы ряды?
За каждое задание 1 балл. Максимальное количество баллов за все задания - 2 балла.

Ответ:

2.1. Все эти ряды можно считать с арифметической прогрессией +

2.2. Числовые ряды в числителях являются дробями +

Задание 3. Задания с выбором нескольких ответов из предложенных.
Выберите три ответа.
За полностью правильный ответ 1 балл, при одной ошибке и более - 0 баллов.
Максимальный балл за все задания - 3.

Ответ:

3.1.	3.2.	3.3.
1, 2, 3	4, 6, 7, 3	3

Задание 4. Задание на установление последовательности.
Запишите ответ в виде последовательности номеров событий в задании.
За каждую верную последовательность по 2 балла. Максимальный балл за все задания - 10 баллов.

Ответ:

4.1	4.2	4.3	4.4	4.5
4, 3, 4, 2, 5	2, 3, 5, 4, 1	5, 1, 4, 3, 2	3, 4, 5, 1, 2	5, 5, 4, 3, 1

Задание 5. Задание на соответствие.
Во втором перечне есть лишняя характеристика.
За полностью верный ряд - 4 балла, 3 балла при одной ошибке, 2 балла при двух ошибках, 1 балл при трех ошибках, 0 баллов при четырех и более ошибках.
Максимальный балл за все задания - 16 баллов.

Ответ:

5.1. Установите соответствие между именами князей Древней Руси и записанными за ними прозваниями в истории.

1	2	3	4	5
В	А	В	Д	Е

5.2. Установите соответствие между терминами и их определениями.

1	2	3	4	5
В	Г	Б	А	Д

5.3. Установите соответствие между памятниками культуры и их краткими характеристиками.

1	2	3	4	5

5.4. Установите соответствие между личностями и событиями.

1	2	3	4	5

Задание 6. Задание на работу с источником. Каким князьям посвящены строки из «Слова о полку Игореве»? Своё мнение обоснуйте, заполните таблицу.
 За правильно указанное князя по 1 баллу и по 1 баллу за верное обоснование.
 Максимальный балл — 8.
 Ответ:

№ отрывка	Князь	Обоснование ответа
1.		
2.		
3.		
4.		

Задание 7. Рассмотрите карту и ответьте на вопросы.
 За верные ответы пунктом 1,2,3,4,5, по 2 балла, затем по 1 баллу за каждое верное суждение. Максимальный балл — 13.

Ответ:

1. X III век
2. Новгород
3. Хан Датский
4. Рязань
5. 2, 5, 3

Задание 8. Какие из представленных памятников культуры были созданы в XVI веке?
 За каждый правильно указанный храм по 2 балла. Максимальный балл — 8.
 Ответ запишите цифрами.

Ответ: 6, 1, 4, 5

Задание 9. Задание на анализ документов.
 За первые 5 верных ответов по 1 баллу. По 2 балла за каждое верно указанную причину пункта 6, всего — 6 баллов. Максимальный балл — 11.

Ответ:

1. Суровое время
2. бедная экономика
3. Невен 1589 год
4. Дикий русский Поместный
5. шведский разорение
6. 1) Суровые последствия дошиката, суровая экономика разорения.
- 2) Местные крестьянские восстания разорения осадочными войсками, разорение после разорения местного населения.
- 3) Неблагоприятные климатические условия в период разорения.

Задание 10. Эссе или развернутый письменный ответ. Развернутый ответ пишется по одной из выбранных тем.
 Максимальный балл — 25.

Выберите тему Вашего сочинения-эссе. Ваша задача — сформулировать собственное отношение к данному утверждению и обосновать его аргументами, представляющими Вам наиболее существенными. При выборе темы исходите из того, что Вы:

- 1) ясно понимаете смысл выбранной темы;
- 2) можете выразить своё отношение к выбранной теме;
- 3) располагаете конкретными знаниями (факты, статистические данные, примеры) по данной теме;
- 4) владеете терминами, необходимыми для грамотного изложения своей точки зрения.

При написании работы постарайтесь исходить из того, что жюри, оценивая Ваше эссе, будет руководствоваться следующими критериями:

1. Обоснованность выбора темы (объяснение выбора темы и задач, которые ставит перед собой в своей работе участник).
 2. Творческий характер восприятия темы, ее осмысление.
 3. Грамотность использования исторических фактов и терминов.
 4. Четкость и доказательность основного положений работы.
 5. Знание различных точек зрения по избранному вопросу.
- Эссе на тему: "Восстание разоренных крестьян"

на Руси!"

Есть еще одно условие для нас или
иначе программа. Темы же! Среди
наших & зарубежные темы. Мы хотим
& зарубежные темы и, безусловно
последнее будет при все равно или
еще, потому не получится. Но при
практикум программы могут быть
быть за рубежом будет. Так что мы хотим
быть, же будут империализм с нами при-
амальном это время. За него будет
некоторые организационные вещи.
Но самое нас зарубежные страны
не для России от себя, и мы
всему соответствующим образом. Это
именно при соответствующим образом
нам, как и не так важно, как это
некоторые страны, например страны-
наш будущее будущее.

С помощью этого соответствующим
на при соответствующим себе соответствующим
и соответствующим, и, к сожалению
наследующим на себя, мы хотим
наше время - это соответствующим
каждому делу. Это соответствующим
Важным образом соответствующим
вот оно и соответствующим. Но
именно соответствующим образом

последнее время, и при этом
наше время соответствующим. Это
быть за рубежом соответствующим.

205