






Общая часть

1. Установите соответствие между изображением игрушки и названием народного промысла, к которому она относится.


| Изображение игрушки | Название народного промысла |
|---|-----------------------------|
|  | абашевская игрушка |
|  | каргопольская игрушка |
|  | дымковская игрушка |
|  | богородская игрушка |
|  | филимоновская игрушка |

10

0,5
2. Как называется направление биотехнологии, включающее в себя совокупность приёмов, методов и технологий создания новых генетических структур, входящих в состав каждой клетки живого организма, выделения генов из организма, осуществления манипуляций с генами и введения их в другие организмы?

ОТВЕТ: рекомбинация

3. Экологические знаки информируют потребителя о различных показателях экологических свойств товаров. Рассмотрите приведённые знаки.



1.



2.









3.

Из предложенных вариантов ответа выберите то описание, которое точнее указывает, что означают данные знаки.

- 0,5
- а) Знак указывает, что объект опасен для окружающей среды.
 - б) Знак означает, что данную вещь следует выбросить в урну.
 - в) Знак означает, что данный продукт может быть опасен для здоровья.
 - г) Знак означает замкнутый цикл: создание – применение – утилизация.
 - д) Знак указывает, что данную вещь необходимо собирать и выбрасывать отдельно.
 - е) Знак указывает, что отдельные компоненты продукта не были протестированы на животных.
 - ж) Знак означает, что товар изготовлен из нетоксичного материала и может соприкасаться с пищевыми продуктами.
 - з) Знак означает, что данную вещь изготовили из сырья, пригодного для переработки или из вторичного (переработанного) сырья.
 - и) Знак означает, что при изготовлении продукта не использовались животные компоненты, полученные ценою жизни животных.

ОТВЕТ: з)

4. Из предложенных фотографий выберите ту, на которой изображён промышленный робот для покраски поверхностей.



97

5. В апреле 1899 года состоялось открытие первой линии трамвая в Москве. Она прошла от Бутырской заставы до Петровского парка. Проезд на трамвае стоил 6 копеек. Иван работает у Романа помощником. Роман дал Ивану на транспортные расходы на месяц 5 рублей. Однако, к середине месяца у Ивана из выданных Романом денег осталась только одна монета, изображённая на рисунке.



Монета

Определите, сколько поездок на трамвае сможет оплатить Иван данной монетой.

ОТВЕТ: 16

Специальная часть

6. Заполните пропуск в тексте

«В организме человека питательные вещества подвергаются сложным изменениям, в результате которых они постепенно превращаются в вещества самого организма, его клеток и тканей, т. е. усваиваются им. Одновременно с образованием в организме новых клеток и тканей происходит постепенное разрушение старых. Оно сопровождается выделением энергии, затрачиваемой на работу органов и поддержание постоянной температуры тела. Оба процесса взаимосвязаны и называются _____».

- а) диффузия; б) ассимиляция; в) обмен веществ; г) диссимиляция

ОТВЕТ: в)

7. Россия – многонациональная страна. Знание традиций народов, проживающих рядом с вами, позволяет лучше понять ваших соседей, укрепляет дружбу между народами. Кулинария – важная часть национальной культуры.

Установите соответствие между блюдом и национальной кухней, к которой оно относится.

ОТВЕТ: 1В 2А 3Б

| Национальные кухни | | |
|--------------------|-------------|------------|
| русская | татарская | еврейская |
| 1 | 2 | 3 |
| Изображение блюд | | |
| | | |
| КАТЫК | ГЕФИЛТЕ ФИШ | СВЕКОЛЬНИК |
| А | Б | В |

15 8. Какой пищевой продукт входит в рецепт всех этих блюд?

В ответ запишите только одно слово в именительном падеже

ОТВЕТ: свёкла

15 9. К какой группе пищевых продуктов относится ответ предыдущего задания?

(1 балл)

а) молочные продукты; б) крупа; в) рыба; г) мясо; д) овощи

ОТВЕТ: г)

10. Начиная с XVIII века все холодные блюда русского стола: квашения (огурцы, капусту, грибы), рыбные соленья (солёную, вяленую, осетровую, лососевую рыбу и икру), мясные копчения (ветчину, буженину) называли:

15 а) закуска;

б) буфет;

в) гарнир;

г) фуршет

ОТВЕТ: а)

11. Современная фирма при производстве одежды используют в своих вещах охлаждающую ткань, наполненную экологически чистым биоразлагаемым гелем, который способен удерживать холод в течение нескольких часов.

Достаточно ли поместить данное изделие перед прогулкой в жаркий день в морозильную камеру на 5-10 минут, чтобы оно дозированно охлаждало тело на протяжении нескольких часов?

15 ОТВЕТ: 1. Да

2. Нет

12. Из предложенного списка выберите слово, чтобы получить известную поговорку: .

« _____ на меху, а рыльце в пуху».

15 а) галоп;

б) салоп;

в) холоп;

г) молот

ОТВЕТ: б)


13. Из предложенных рисунков выберите изображение ответа из предыдущего задания



15
 ОТВЕТ: б)

14. Решите ребус.

В ответ запишите только одно слово в именительном падеже.



15
~~АНС~~ ~~УХКА~~ ✗ ~~ПАРУСЫ~~

ОТВЕТ: Спицы

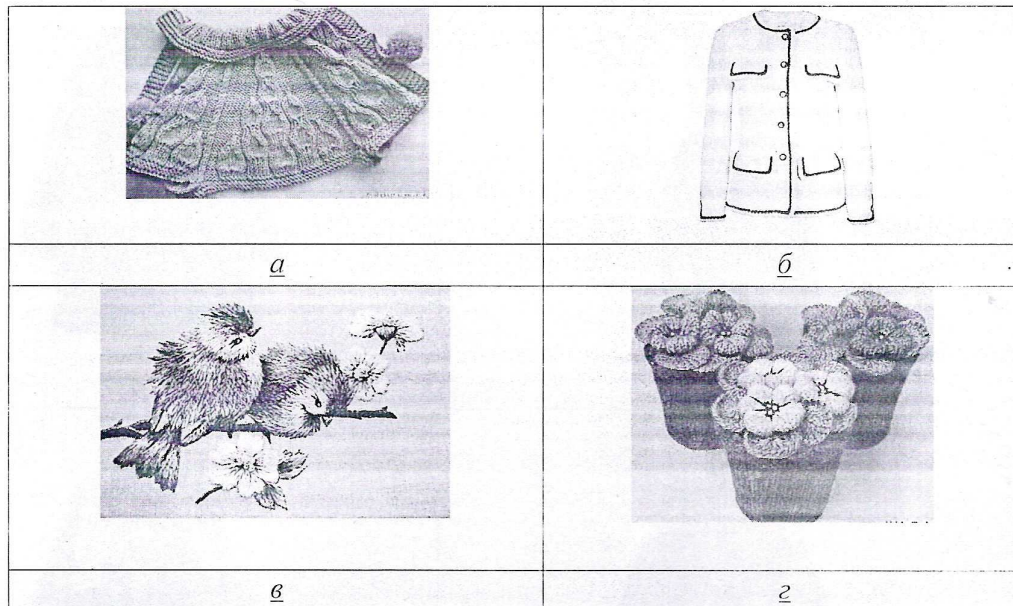
15. Чем является решение ребуса?

а) материалом; б) инструментом; в) элементом декора; г) пищевым продуктом

15
 ОТВЕТ: б)

16. Из предложенных рисунков выберите все, на которых изображены изделия, выполненные с использованием решения ребуса

0,5



ОТВЕТ: a

17. Установите соответствие между изображениями женских народных костюмов и субъектами Российской Федерации, из которых они происходят.

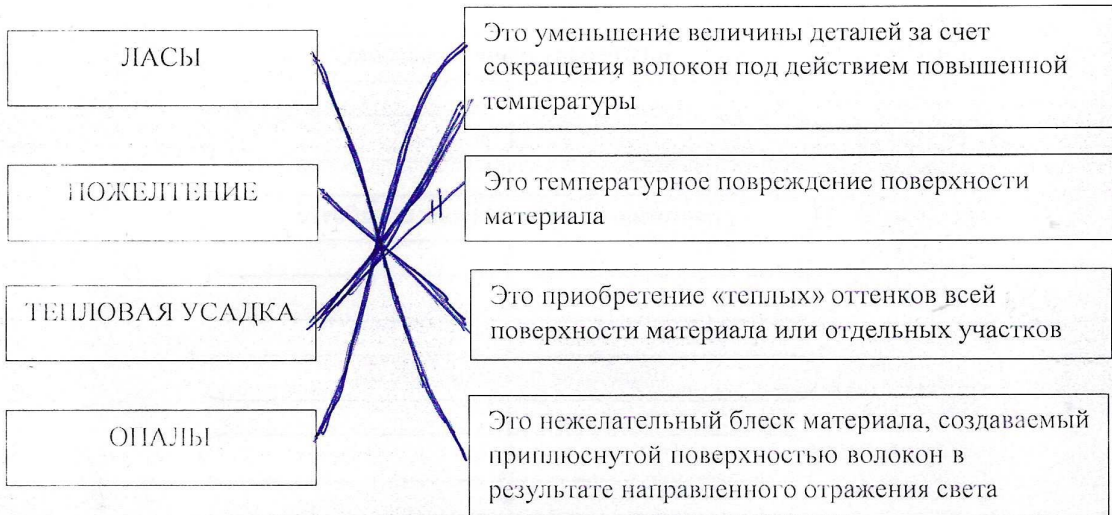
10

ОТВЕТ: 1б 2а 3г

| Изображения народных костюмов | | |
|---|--|---|
|  <i>1</i> |  <i>2</i> |  <i>3</i> |
| Субъекты Российской Федерации | | |
| Орловская губерния | Республика Калмыкия | Кабардино-Балкарская Республика |
| <i>a</i> | <i>б</i> | <i>в</i> |

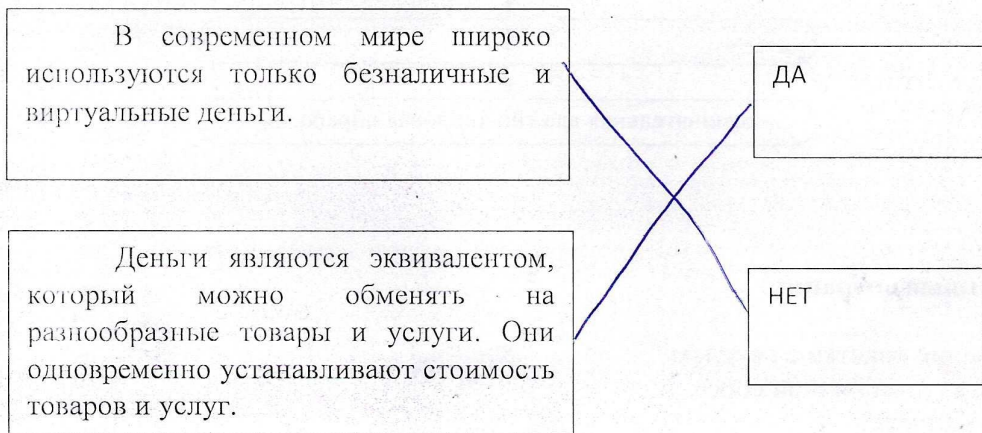
18. Найдите правильное соответствие вида дефекта при проведении влажно-тепловой обработки и его характеристик:

10

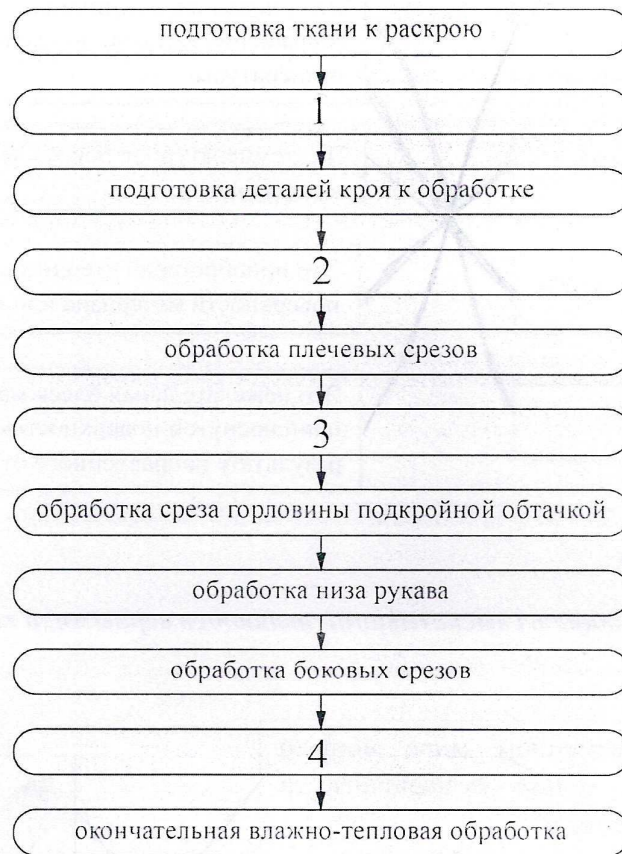


19. Укажите, какие из высказываний являются верными, а какие неверными:

10



20. Технология изготовления швейных изделий включает технологические операции.
В предложенную технологическую карту «Изготовление ночной сорочки с прямой кокеткой по переду» вставьте пропущенные операции.



Пропущенные операции

- А) соединение кокетки с передом
- Б) обработка низа ночной сорочки
- В) раскрой изделия
- Г) обработка подкройной обтачки

ОТВЕТ:

| | | | |
|---|---|---|---|
| 1 | 2 | 3 | 4 |
| В | А | Г | Б |

10

Творческое задание

21. Кейс – задача. Рассмотрите вариант предложенной модели блузки на рисунке и выполните описание модели по предложенному плану в Таблице 1



Описание модели:
 Блузка полуприлегающего силуэта из шёлковой ткани с застежкой спереди на обтачные петли и пуговицы, романтического стиля.
 Полочки с нагрудными вытачками от бокового шва.
 Спинка с вытачками на линии талии.
 Борта и низ блузки, обработаны притачными планками.
 Рукава втачные с манжетами на застежку петля-пуговица.
 Воротник рубашечный с отрезной стойкой.
 Длина изделия до линии бедер.
 Рекомендуемая ткань – платяевая, шёлковая средней плотности из натуральных или смешанных искусственных и синтетических волокон.
 Отделочный материал – воротник, планки и манжеты из отделочной однотонной ткани

| | | |
|-----|-------------------------------------|--|
| 1. | Наименование изделия | блузка |
| 2. | Силуэт | полуприлегающий |
| 3. | Стиль | романтический |
| 4. | Длина изделия | по линии бедер |
| 5. | Наличие застежки | спереди на обтачные петли и пуговицы |
| 6. | Вид рукава | втачные с манжетами |
| 7. | Вид воротника | рубашечный с отрезной стойкой |
| 8. | Конструктивные и декоративные линии | полочки, спинка, притачные планки |
| 9. | Применяемая фурнитура | пуговицы |
| 10. | Характеристика ткани (состав) | из натуральных или смешанных искусственных и синтетических волокон |

55

Лист для выполнения творческого задания


На предложенную модель в задании перечислите наименование основных деталей кроя и их количество в Таблице 2.

Таблица 2 – Перечень деталей кроя.

| № п/п | Наименование деталей | Количество деталей |
|-------|----------------------|--------------------|
| 1. | | |
| 2. | | |
| 3. | | |
| 4. | | |
| 5. | | |
| 6. | | |
| 7. | | |
| 8. | | |
| 9. | | |






На основе предложенной модели в задании выполните эскиз модели блузки с использованием отделочных деталей в соответствии с современными тенденциями моды. Сделайте в Таблице 3 описание созданной Вами модели

Таблица 3 – Эскиз и описание авторской модели

| Модель для эскиза | Описание модели |
|---|---|
|  | Наименование изделия <i>блузка</i> |
| | Силуэт <i>френч-каюкэй</i> |
| | Стиль <i>классический</i> |
| | Длина изделия <i>по линии талии</i> |
| | Наличие застежки <i>спереди на пуговицы</i> |
| | Вид рукава <i>втачные</i> |
| | Вид воротника |
| | Конструктивные и декоративные линии |
| | Применяемая фурнитура <i>ткань, пуговицы</i> |
| | Характеристика ткани (состав) <i>хлопок</i> |

Общая часть

1. Установите соответствие между изображением игрушки и названием народного промысла, к которому она относится.

| Изображение игрушки | Название народного промысла |
|---|-----------------------------|
|  | абашевская игрушка |
|  | каргопольская игрушка |
|  | дымковская игрушка |
|  | богородская игрушка |
|  | филимоновская игрушка |


0,55

0,55

2. Как называется направление биотехнологии, включающее в себя совокупность приёмов, методов и технологий создания новых генетических структур, входящих в состав каждой клетки живого организма, выделения генов из организма, осуществления манипуляций с генами и введения их в другие организмы?

ОТВЕТ: генная инженерия

3. Экологические знаки информируют потребителя о различных показателях экологических свойств товаров. Рассмотрите приведённые знаки.



1.



2.
8









3.
Ж

Из предложенных вариантов ответа выберите то описание, которое точнее указывает, что означают данные знаки.

- а) Знак указывает, что объект опасен для окружающей среды.
б) Знак означает, что данную вещь следует выбросить в урну.
в) Знак означает, что данный продукт может быть опасен для здоровья.
г) Знак означает замкнутый цикл: создание – применение – утилизация.
д) Знак указывает, что данную вещь необходимо собирать и выбрасывать отдельно.
е) Знак указывает, что отдельные компоненты продукта не были протестированы на животных.
ж) Знак означает, что товар изготовлен из нетоксичного материала и может соприкасаться с пищевыми продуктами.
з) Знак означает, что данную вещь изготовили из сырья, пригодного для переработки или из вторичного (переработанного) сырья.
и) Знак означает, что при изготовлении продукта не использовались животные компоненты, полученные ценою жизни животных

ОТВЕТ: б ж

4. Из предложенных фотографий выберите ту, на которой изображён промышленный робот для покраски поверхностей.



10

5. В апреле 1899 года состоялось открытие первой линии трамвая в Москве. Она прошла от Бутырской заставы до Петровского парка. Проезд на трамвае стоил 6 копеек. Иван работает у Романа помощником. Роман дал Ивану на транспортные расходы на месяц 5 рублей. Однако, к середине месяца у Ивана из выданных Романом денег осталась только одна монета, изображённая на рисунке.



Монета

Определите, сколько поездок на трамвае сможет оплатить Иван данной монетой.

ОТВЕТ: 16 поездок

Специальная часть

6. Заполните пропуск в тексте

«В организме человека питательные вещества подвергаются сложным изменениям, в результате которых они постепенно превращаются в вещества самого организма, его клеток и тканей, т. е. усваиваются им. Одновременно с образованием в организме новых клеток и тканей происходит постепенное разрушение старых. Оно сопровождается выделением энергии, затрачиваемой на работу органов и поддержание постоянной температуры тела. Оба процесса взаимосвязаны и называются обмен веществ».

- а) диффузия; б) ассимиляция; **в) обмен веществ**; г) диссимиляция

ОТВЕТ: обмен веществ

7. Россия – многонациональная страна. Знание традиций народов, проживающих рядом с вами, позволяет лучше понять ваших соседей, укрепляет дружбу между народами. Кулинария – важная часть национальной культуры.

Установите соответствие между блюдом и национальной кухней, к которой оно относится.

ОТВЕТ: В1, А2, Б3

| Национальные кухни | | |
|--------------------|-------------|------------|
| русская | татарская | еврейская |
| 1 | 2 | 3 |
| Изображение блюд | | |
| | | |
| КАТЫК | ГЕФИЛТЕ ФИШ | СВЕКОЛЬНИК |
| А | Б | В |

15 8. Какой пищевой продукт входит в рецепт всех этих блюд?

В ответ запишите только одно слово в именительном падеже

ОТВЕТ: Свекла

16 9. К какой группе пищевых продуктов относится ответ предыдущего задания?

(1 балл)

а) молочные продукты; б) крупа; в) рыба; г) мясо; д) овощи

ОТВЕТ: д

18 10. Начиная с XVIII века все холодные блюда русского стола: квашения (огурцы, капусту, грибы), рыбные соленья (солёную, вяленую, осетровую, лососевую рыбу и икру), мясные копчения (ветчину, буженину) называли:

а) закуска;

б) буфет;

в) гарнир;

г) фуршет

ОТВЕТ: а

20 11. Современная фирма при производстве одежды используют в своих вещах охлаждающую ткань, наполненную экологически чистым биоразлагаемым гелем, который способен удерживать холод в течение нескольких часов.

Достаточно ли поместить данное изделие перед прогулкой в жаркий день в морозильную камеру на 5-10 минут, чтобы оно дозированно охлаждало тело на протяжении нескольких часов?

ОТВЕТ: 1. Да

2. Нет

22 12. Из предложенного списка выберите слово, чтобы получить известную поговорку:

« молот на меху, а рыльце в пуху ».

а) галоп;

б) салоп;

в) холоп;

г) молот

ОТВЕТ: г) молот


13. Из предложенных рисунков выберите изображение ответа из предыдущего задания



10
ОТВЕТ: б

14. Решите ребус.

В ответ запишите только одно слово в именительном падеже.



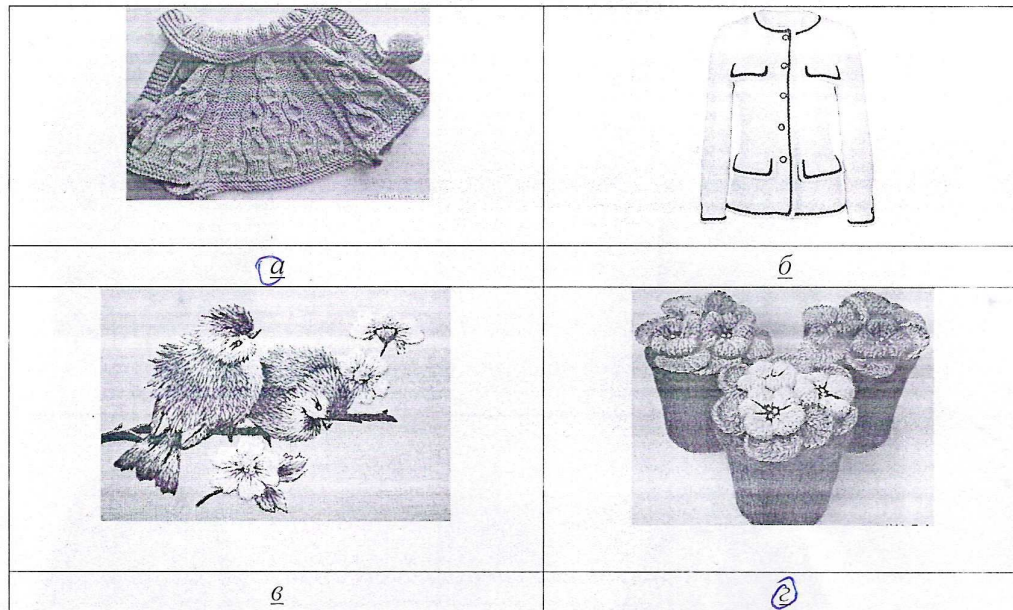
ОТВЕТ: стига

15. Чем является решение ребуса?

а) материалом; б) инструментом; в) элементом декора; г) пищевым продуктом

10
ОТВЕТ: б

16. Из предложенных рисунков выберите все, на которых изображены изделия, выполненные с использованием решения ребуса



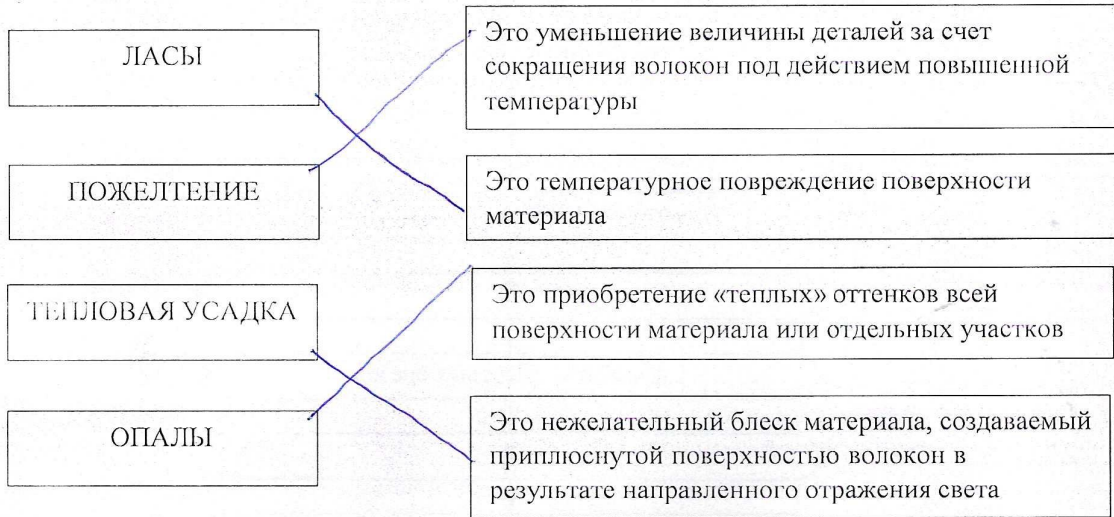
ОТВЕТ: г

17. Установите соответствие между изображениями женских народных костюмов и субъектами Российской Федерации, из которых они происходят.

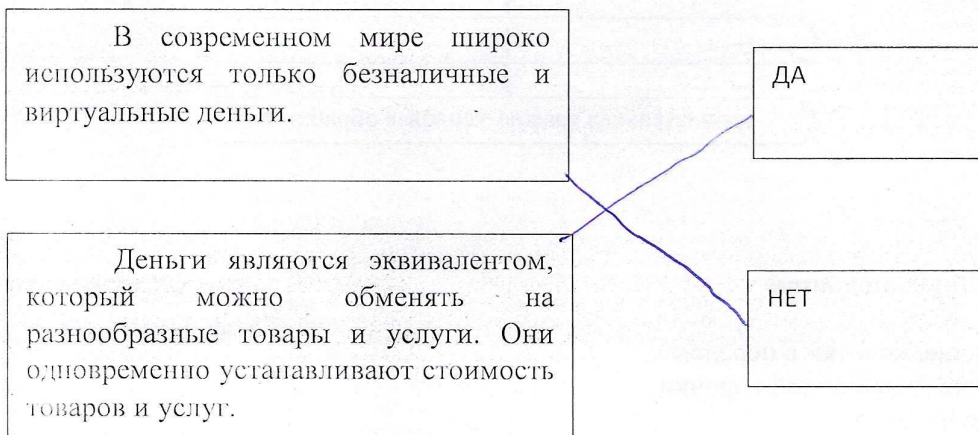
ОТВЕТ: В3, А2, Б1

| Изображения народных костюмов | | |
|---|--|---|
|  |  |  |
| 1 | 2 | 3 |
| Субъекты Российской Федерации | | |
| Орловская губерния | Республика Калмыкия | Кабардино-Балкарская Республика |
| <u>а</u> | <u>б</u> | <u>в</u> |

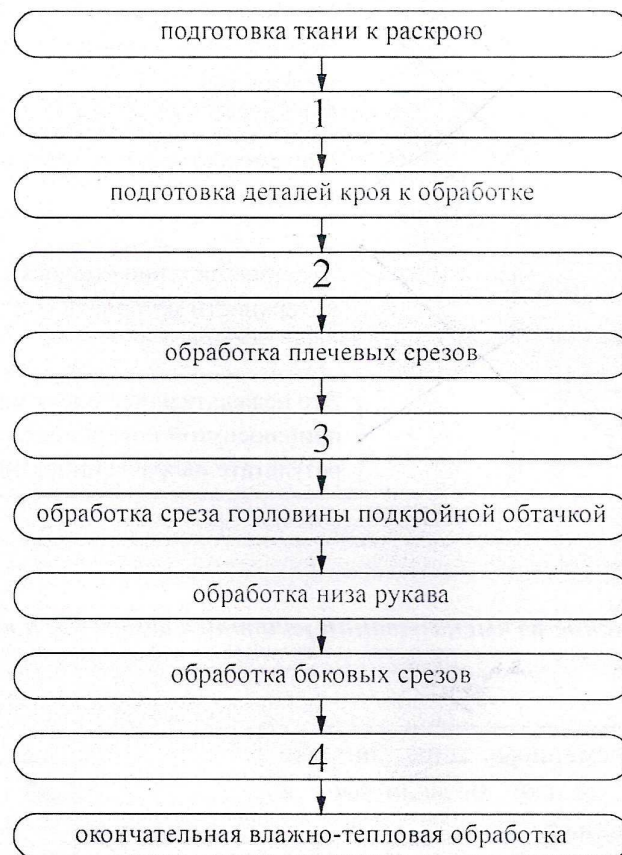
18. Найдите правильное соответствие вида дефекта при проведении влажно-тепловой обработки и его характеристик:



19. Укажите, какие из высказываний являются верными, а какие неверными:



20. Технология изготовления швейных изделий включает технологические операции.
В предложенную технологическую карту «Изготовление ночной сорочки с прямой кокеткой по переду» вставьте пропущенные операции.



Пропущенные операции

- А) соединение кокетки с передом
- Б) обработка низа ночной сорочки
- В) раскрой изделия
- Г) обработка подкройной обтачки

ОТВЕТ:

| | | | |
|---|---|---|---|
| 1 | 2 | 3 | 4 |
| Б | А | Г | В |

Творческое задание

21. Кейс – задача. Рассмотрите вариант предложенной модели блузки на рисунке и выполните описание модели по предложенному плану в Таблице 1



Описание модели:
 Блузка полуприлегающего силуэта из шёлковой ткани с застежкой спереди на обтачные петли и пуговицы, романтического стиля.
 Полочки с нагрудными вытачками от бокового шва.
 Спинка с вытачками на линии талии.
 Борта и низ блузки, обработаны притачными планками.
 Рукава втачные с манжетами на застежку петля-пуговица.
 Воротник рубашечный с отрезной стойкой.
 Длина изделия до линии бедер.
 Рекомендуемая ткань – платьевая, шёлковая средней плотности из натуральных или смешанных искусственных и синтетических волокон.
 Отделочный материал – воротник, планки и манжеты из отделочной однотонной ткани

| | | |
|-----|-------------------------------------|---------------------------------------|
| 1. | Наименование изделия | Блузка |
| 2. | Силуэт | полуприлегающий |
| 3. | Стиль | романтический |
| 4. | Длина изделия | до линии бедер |
| 5. | Наличие застежки | на петля-пуговица |
| 6. | Вид рукава | втачной с манжетой |
| 7. | Вид воротника | рубашечный с отрезной стойкой |
| 8. | Конструктивные и декоративные линии | от бокового шва |
| 9. | Применяемая фурнитура | пуговицы |
| 10. | Характеристика ткани (состав) | из натурального шел. шёлковые волокна |

Лист для выполнения творческого задания


На предложенную модель в задании перечислите наименование основных деталей кроя и их количество в Таблице 2.

Таблица 2 – Перечень деталей кроя.

| № п/п | Наименование деталей | Количество деталей |
|-------|----------------------|--------------------|
| 1. | платье | 2 |
| 2. | шорта | 1 |
| 3. | бюстгалтер | 1 |
| 4. | юбка | 1 |
| 5. | манжета | 1 |
| 6. | шарфы | 1 |
| 7. | туника | 1 |
| 8. | курточка | 1 |
| 9. | | |

На основе предложенной модели в задании выполните эскиз модели блузки с использованием отделочных деталей в соответствии с современными тенденциями моды. Сделайте в Таблице 3 описание созданной Вами модели






Таблица 3 – Эскиз и описание авторской модели

| Модель для эскиза | Описание модели |
|---|---|
|  | Наименование изделия <u>платье</u> |
| | Силуэт <u>прямостоящий</u> |
| | Стиль <u>классический</u> |
| | Длина изделия <u>до колена</u> |
| | Наличие застежки <u>нет</u> |
| | Вид рукава <u>длиной с открытой частью плеча нового образца</u> |
| | Вид воротника <u>высокий</u> |
| | Конструктивные и декоративные линии <u>нет</u> |
| | Применяемая фурнитура <u>нет</u> |
| | Характеристика ткани (состав) <u>шелк 50% и полиэстер 50%</u> |

50

Общая часть

1. Установите соответствие между изображением игрушки и названием народного промысла, к которому она относится.


| Изображение игрушки | Название народного промысла |
|---|-----------------------------|
|  | абашевская игрушка |
|  | каргопольская игрушка |
|  | дымковская игрушка |
|  | богородская игрушка |
|  | филимоновская игрушка |

08

15
2. Как называется направление биотехнологии, включающее в себя совокупность приёмов, методов и технологий создания новых генетических структур, входящих в состав каждой клетки живого организма, выделения генов из организма, осуществления манипуляций с генами и введения их в другие организмы?

ОТВЕТ: генная инженерия

3. Экологические знаки информируют потребителя о различных показателях экологических свойств товаров. Рассмотрите приведённые знаки.



1.



2.



3.







Из предложенных вариантов ответа выберите то описание, которое точнее указывает, что означают данные знаки.

- 15
- а) Знак указывает, что объект опасен для окружающей среды.
 - б) Знак означает, что данную вещь следует выбросить в урну.
 - в) Знак означает, что данный продукт может быть опасен для здоровья.
 - г) Знак означает замкнутый цикл: создание – применение – утилизация.
 - д) Знак указывает, что данную вещь необходимо собирать и выбрасывать отдельно.
 - е) Знак указывает, что отдельные компоненты продукта не были протестированы на животных.
 - ж) Знак означает, что товар изготовлен из нетоксичного материала и может соприкасаться с пищевыми продуктами.
 - з) Знак означает, что данную вещь изготовили из сырья, пригодного для переработки или из вторичного (переработанного) сырья.
 - и) Знак означает, что при изготовлении продукта не использовались животные компоненты, полученные ценою жизни животных.

ОТВЕТ: г-з-д-ж-и

4. Из предложенных фотографий выберите ту, на которой изображён промышленный робот для покраски поверхностей.

16

| | |
|---|---|
|  <input type="checkbox"/> |  <input checked="" type="checkbox"/> |
|  <input type="checkbox"/> |  <input type="checkbox"/> |
|  <input type="checkbox"/> |  <input type="checkbox"/> |

5. В апреле 1899 года состоялось открытие первой линии трамвая в Москве. Она прошла от Бутырской заставы до Петровского парка. Проезд на трамвае стоил 6 копеек. Иван работает у Романа помощником. Роман дал Ивану на транспортные расходы на месяц 5 рублей. Однако, к середине месяца у Ивана из выданных Романом денег осталась только одна монета, изображённая на рисунке.



Монета

Определите, сколько поездок на трамвае сможет оплатить Иван данной монетой.

ОТВЕТ: 15 поездок

Специальная часть

6. Заполните пропуск в тексте

«В организме человека питательные вещества подвергаются сложным изменениям, в результате которых они постепенно превращаются в вещества самого организма, его клеток и тканей, т. е. усваиваются им. Одновременно с образованием в организме новых клеток и тканей происходит постепенное разрушение старых. Оно сопровождается выделением энергии, затрачиваемой на работу органов и поддержание постоянной температуры тела. Оба процесса взаимосвязаны и называются обмен веществ»

- а) диффузия; б) ассимиляция; в) обмен веществ; г) диссимиляция

ОТВЕТ: б

7. Россия – многонациональная страна. Знание традиций народов, проживающих рядом с вами, позволяет лучше понять ваших соседей, укрепляет дружбу между народами. Кулинария – важная часть национальной культуры.

Установите соответствие между блюдом и национальной кухней, к которой оно относится.

ОТВЕТ: 1В; 2А; 3Б.

| Национальные кухни | | |
|--------------------|-------------|------------|
| русская | татарская | еврейская |
| 1 | 2 | 3 |
| Изображение блюд | | |
| | | |
| КАТЫК | ГЕФИЛТЕ ФИШ | СВЕКОЛЬНИК |
| А | Б | В |

05 8. Какой пищевой продукт входит в рецепт всех этих блюд?

В ответ запишите только одно слово в именительном падеже

ОТВЕТ: Сметана

15 9. К какой группе пищевых продуктов относится ответ предыдущего задания?

(1 балл)

а) молочные продукты; б) крупа; в) рыба; г) мясо; д) овощи

ОТВЕТ: г

10. Начиная с XVIII века все холодные блюда русского стола: квашения (огурцы, капусту, грибы), рыбные соленья (солёную, вяленую, осетровую, лососевую рыбу и икру), мясные копчения (ветчину, буженину) называли:

15 а) закуска;

б) буфет;

в) гарнир;

г) фуршет

ОТВЕТ: а

05 11. Современная фирма при производстве одежды используют в своих вещах охлаждающую ткань, наполненную экологически чистым биоразлагаемым гелем, который способен удерживать холод в течение нескольких часов.

Достаточно ли поместить данное изделие перед прогулкой в жаркий день в морозильную камеру на 5-10 минут, чтобы оно дозированно охлаждало тело на протяжении нескольких часов?

ОТВЕТ: 1. Да

2. Нет

12. Из предложенного списка выберите слово, чтобы получить известную поговорку: .

05 « Галоп на меху, а рыльце в пуху».

а) галоп;

б) салои;

в) холои;

г) молот

ОТВЕТ: а


13. Из предложенных рисунков выберите изображение ответа из предыдущего задания



15
 ОТВЕТ: в

14. Решите ребус.

В ответ запишите только одно слово в именительном падеже.



ОТВЕТ: стица

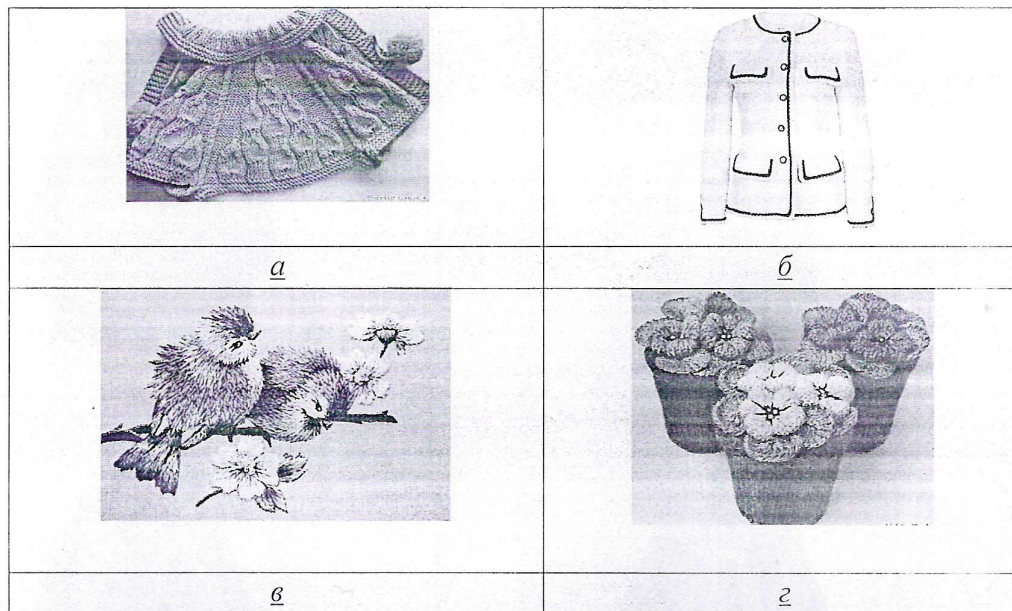
15. Чем является решение ребуса?

а) материалом; б) инструментом; в) элементом декора; г) пищевым продуктом

15
 ОТВЕТ: б

16. Из предложенных рисунков выберите все, на которых изображены изделия, выполненные с использованием решения ребуса

15



ОТВЕТ: а, г

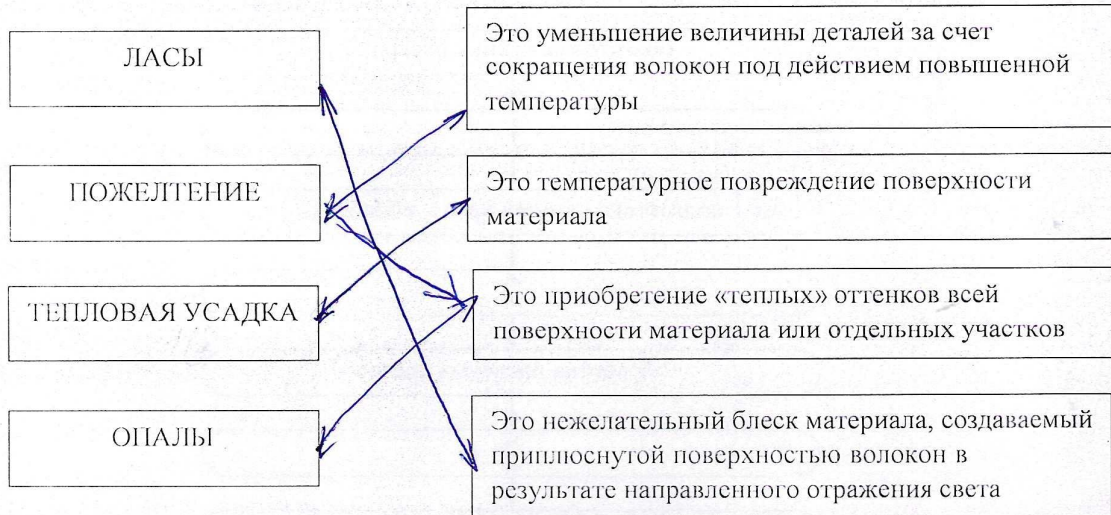
17. Установите соответствие между изображениями женских народных костюмов и субъектами Российской Федерации, из которых они происходят.

ОТВЕТ: а2; б3; в1

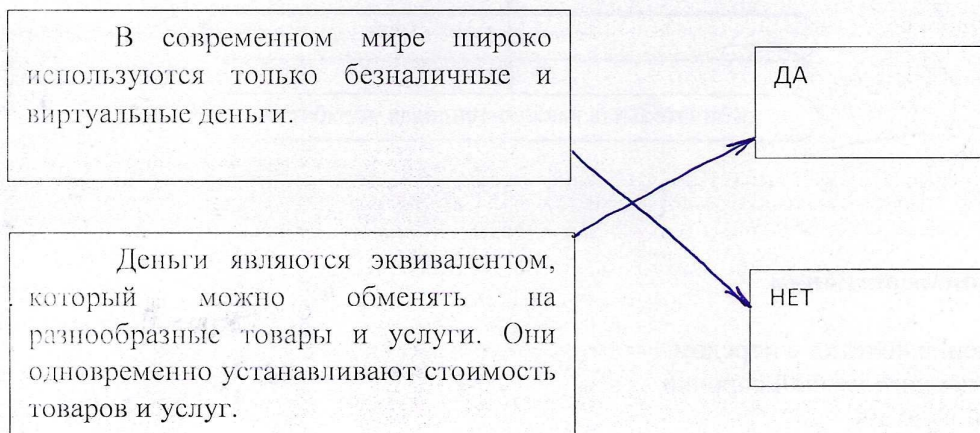
15

| Изображения народных костюмов | | |
|---|--|---|
|  |  |  |
| 1 | 2 | 3 |
| Субъекты Российской Федерации | | |
| Орловская губерния | Республика Калмыкия | Кабардино-Балкарская Республика |
| а | б | в |

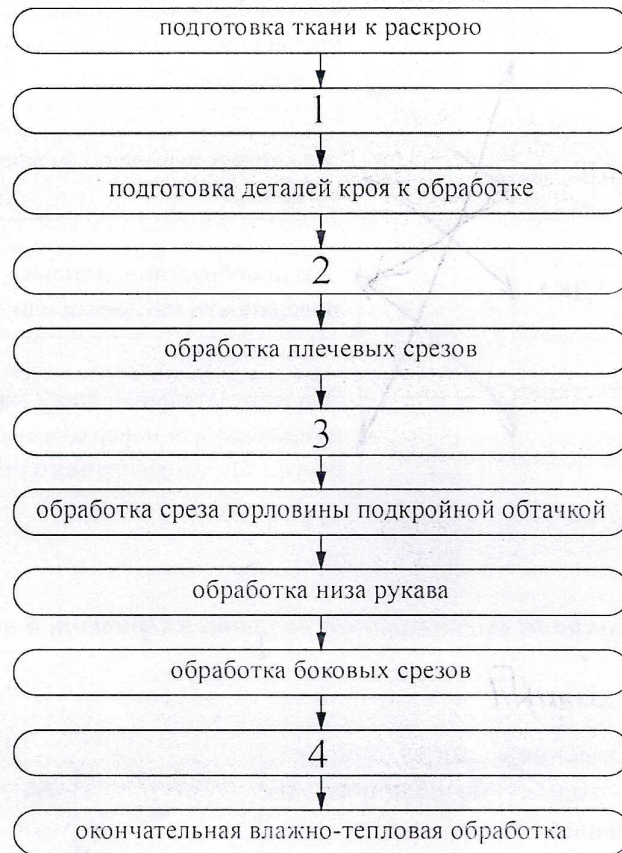
18. Найдите правильное соответствие вида дефекта при проведении влажно-тепловой обработки и его характеристик:



19. Укажите, какие из высказываний являются верными, а какие неверными:



20. Технология изготовления швейных изделий включает технологические операции.
В предложенную технологическую карту «Изготовление ночной сорочки с прямой кокеткой по переду» вставьте пропущенные операции.



Пропущенные операции

- А) соединение кокетки с передом
- Б) обработка низа ночной сорочки
- В) раскрой изделия
- Г) обработка подкройной обтачки

ОТВЕТ:

| | | | |
|---|---|---|---|
| 1 | 2 | 3 | 4 |
| В | А | Б | Б |

15

Творческое задание

55

21. Кейс – задача. Рассмотрите вариант предложенной модели блузки на рисунке и выполните описание модели по предложенному плану в Таблице 1

| | | |
|--|--|---------------------|
|  | <p>Описание модели:</p> <p>Блузка полуприлегающего силуэта из шёлковой ткани с застежкой спереди на обтачные петли и пуговицы, романтического стиля.</p> <p>Полочки с нагрудными вытачками от бокового шва.</p> <p>Спинка с вытачками на линии талии.</p> <p>Борта и низ блузки, обработаны притачными планками.</p> <p>Рукава втачные с манжетами на застежку петля-пуговица.</p> <p>Воротник рубашечный с отрезной стойкой.</p> <p>Длина изделия до линии бедер.</p> <p>Рекомендуемая ткань – платьевая, шёлковая средней плотности из натуральных или смешанных искусственных и синтетических волокон.</p> <p>Отделочный материал – воротник, планки и манжеты из отделочной однотонной ткани</p> | |
| 1. | Наименование изделия | Блузка |
| 2. | Силуэт | Полуприлегающий |
| 3. | Стиль | Романтический |
| 4. | Длина изделия | До бедр. |
| 5. | Наличие застежки | есть на петлях |
| 6. | Вид рукава | Втачные с манжетами |
| 7. | Вид воротника | отрезная стойка |
| 8. | Конструктивные и декоративные линии | |
| 9. | Применяемая фурнитура | Пуговицы, петли |
| 10. | Характеристика ткани (состав) | Шёлковая ткань |

Лист для выполнения творческого задания


На предложенную модель в задании перечислите наименование основных деталей кроя и их количество в Таблице 2.

Таблица 2 – Перечень деталей кроя.

| № п/п | Наименование деталей | Количество деталей |
|-------|----------------------|--------------------|
| 1. | Рукава | 2 |
| 2. | Пуговицы | 4 |
| 3. | | |
| 4. | | |
| 5. | | |
| 6. | | |
| 7. | | |
| 8. | | |
| 9. | | |

На основе предложенной модели в задании выполните эскиз модели блузки с использованием отделочных деталей в соответствии с современными тенденциями моды. Сделайте в Таблице 3 описание созданной Вами модели

Таблица 3 – Эскиз и описание авторской модели

| Модель для эскиза | Описание модели |
|---|---------------------------------------|
|  | Наименование изделия Блузка |
| | Силуэт Приспороженный |
| | Стиль Девопос |
| | Длина изделия по пояс |
| | Наличие застежки есть |
| | Вид рукава попанных |
| | Вид воротника рубашечный |
| | Конструктивные и декоративные линии |
| | Применяемая фурнитура пуговицы |
| | Характеристика ткани (состав) Шелк |

Общая часть

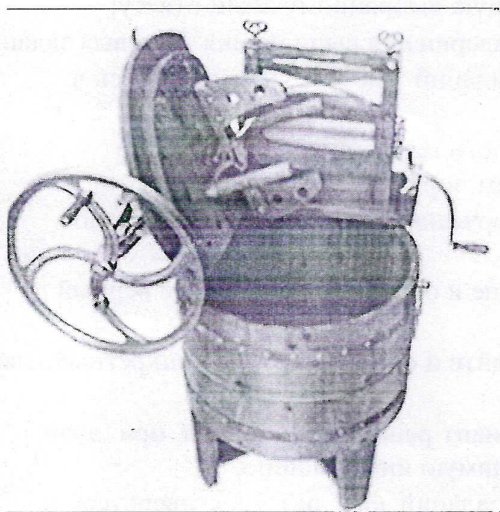
1. Определите, к каким двум основным типам профессий относится профессия «графический дизайнер».

- а) человек – знак
- б) человек – природа
- в) человек – техника
- г) человек – человек
- д) человек – художественный образ

0,5

Ответ: в, г

2. Рассмотрите приведенную фотографию. Какое техническое устройство на ней изображено?



- а) сушиар
- б) пылесос
- в) ткацкий станок
- г) швейная машина
- д) стиральная машина
- е) микроволновая печь
- ж) посудомоечная машина

15

Ответ: г

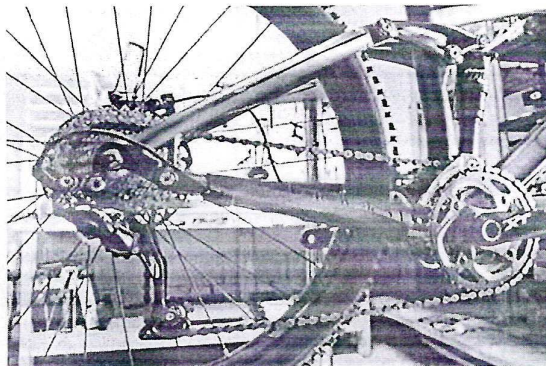
3. Преобразуют энергию топлива в электрическую энергию.

- а) Атомные электростанции
- б) Тепловые электростанции
- в) Механические электростанции
- г) Гидроэлектростанции
- д) Ветроэлектростанции

15

Ответ: б

4. Определите, какая передача изображена в данном механизме?



- а) цепная передача б) реечная передача
в) червячная передача г) фрикционная передача

15
Ответ: а.

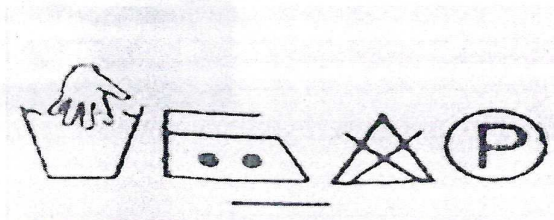
5. Расположите электролампы в порядке убывания потребляемой ими электроэнергии при одинаковой мощности.

- 15
а) светодиодная лампа;
б) люминесцентная лампа;
в) лампа накаливания.

Ответ: б, а, в

Специальная часть

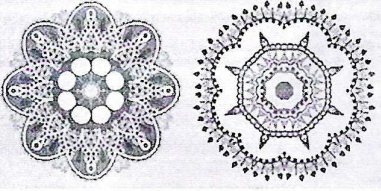



6. Из какой ткани по волокнистому составу изготовлена блуза, если на ярлычке по уходу за изделием изображены такие значки?



Ответ: Синтетика

Код _____ Муниципальный этап. 7 классы

7 Определите, какой базовый элемент геометрического орнамента объединяет разные мотивы в орнаменте. Впишите в таблицу: какой мотив является основой в предложенных орнаментах?


| мотив: | | | |
|---|---|--|---|
| 1. | 2. | 3. | 4. |
|  |  |  |  |

15
Ответ:

р а н н о р т

8. Как называется искусство художественной резки по овощам и фруктам?

- 15
- а) квиллинг
 - б) карвинг
 - в) вытынанка



Ответ б

9. Проведите соответствие между частями машинной иглы и их назначением в процессе образования машинной строчки: Установите соответствие: (выберете правильный ответ).

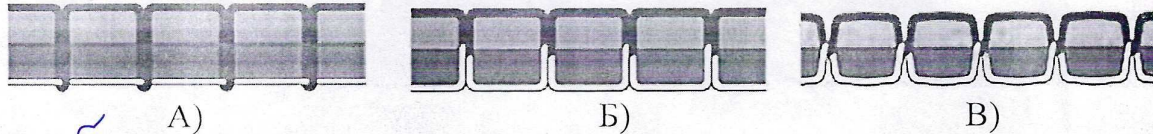
| Часть иглы | | Назначение | |
|------------|------------------|------------|--|
| 1 | колба | а | для прокола ткани |
| 2 | короткий желобок | б | для предохранения нитки от повреждений |
| 3 | острие | в | образования петли для захвата нити |
| 4 | ушко | г | для закрепления иглы |
| 5 | длинный желобок | д | для заправки верхней нити |

15

| | | | |
|-----------------------------|-----------------------------|-----------------------------|-----------------------------|
| 1-б; 2-г; 3-д; 4-а; 5-в; | 1-в; 2-г; 3-а; 4-д; 5-б; | 1-д; 2-а; 3-б; 4-г; 5-в; | 1-г; 2-в; 3-а; 4-д; 5-б; |
| А | Б | <u>В</u> | Г |

10. На каком рисунке изображено правильное натяжение нитей машинной строчки.

Выберите правильный ответ



15

Ответ: Б

11. Данный элемент одежды ввела в моду фаворитка короля Карла VI Агнесса Сорель в начале XV века.

В начале XVIII века его длина строго регламентировалась. Так, королева имела право носить его длиной в одиннадцать локтей.

Принцессам крови разрешался длиной в девять локтей, другие представительницы королевского дома могли носить его длиной семь локтей, у всех остальных он не мог превышать трех локтей. Как называется этот элемент одежды?

05

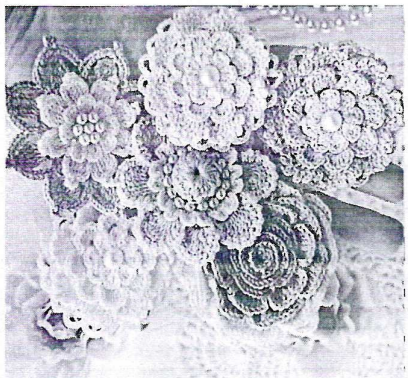
Ответ: короткий рукав

12. Укажите, на каком рисунке представлено макраме.

а)

б)

в)



15

Ответ: 8

13. В каком стиле собран данный NewLook (англ. — новый взгляд, образ, силуэт).

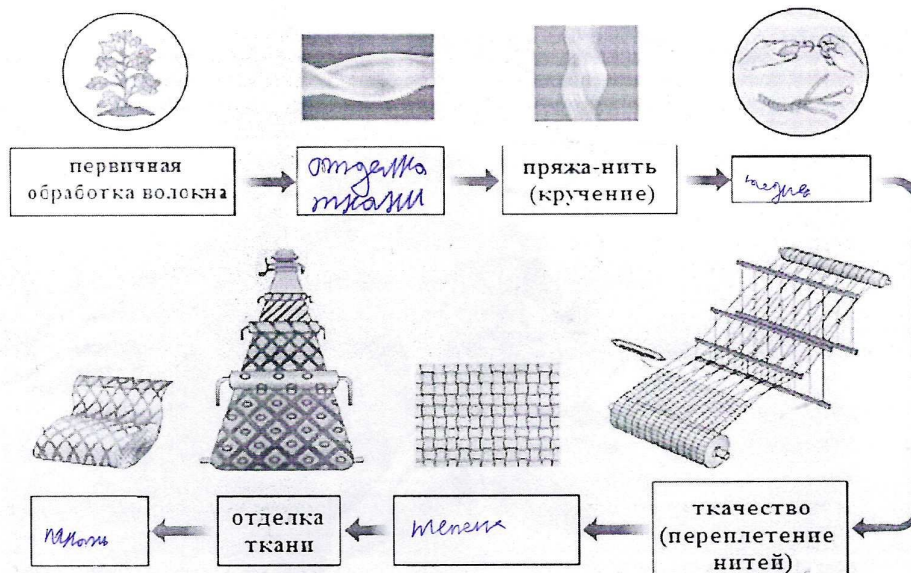


15

Ответ: 70-е гг. кэжуал

14. Дополните схему производства ткани.

0,5



Ответ: _____

15. Выбери все правильные ответы. Признаки доброкачественности рыбы:

15

- а) глаза мутные;
- б) жабры светло-розовые;
- в) специфический рыбный запах;
- г) брюшко вздутое;
- д) консистенция мягкая;
- е) слизь прозрачная.

Ответ: б, д, е

16. Какие машинные швы соответствуют следующим условным обозначениям?

15

| | | |
|----|--|--------------------------------|
| 1. | | а) Вподгибку с открытым срезом |
| 2. | | б) Вподгибку с закрытым срезом |
| 3. | | в) Стачной вразутюжку |

Ответ:

1. - б, 2. - а, 3. - б


17. Какая пряность изображена на картинке?



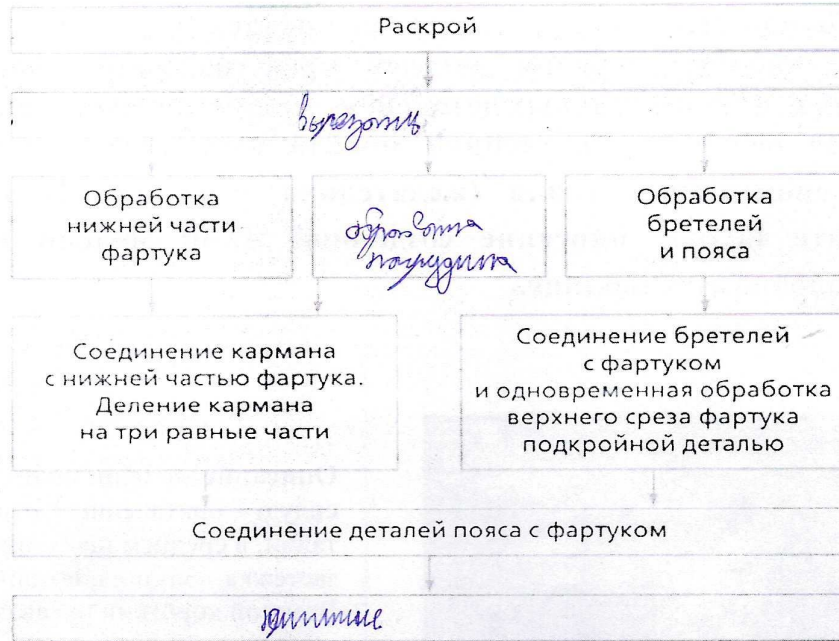
05
Ответ мята

18. Из предложенных изображений моделей одежды выберите ту, название которой встречается в тексте песни Владимира Высоцкого.

05
*«За нашей спиной остались паденья, закаты,
Ну хоть бы ничтожный, ну хоть бы невидимый взлёт.
Мне хочется верить, что чёрные наши бушлаты
Дадут мне возможность сегодня увидеть восход».*



19. Заполните в представленной схеме все ячейки, вписав в них недостающие названия операций по технологической последовательности изготовления цельнокроеного фартука.



20. Какое минеральное вещество способствует нормализации водного обмена в организме?

15

а) магний

б) фосфор

в) хлор

г) калий

Ответ: а

58

Творческое задание

21. Кейс – задача. Дан эскиз модели и ее краткое описание.

1. Выполните описание модели по предложенному плану (таблица 1).
2. В таблице перечня деталей кроя напишите наименование основных и дополнительных деталей, их количество (таблица 2).
3. На основе предложенной модели выполните эскиз модели платья спортивного стиля (желательно в цвете). В таблице 3 выполните полное описание созданной Вами модели по плану, представленному в таблице.



Описание модели: платье для девочки, силуэт – приталенный, отрезное по линии талии, в среднем шве спинки и юбки застёжка – молния, потайная. Втачной короткий рукав со сборкой по окату. Низ рукав и округлый, вырез горловины обработаны косой бейкой из этой же ткани. Лиф платья без вытачек. Юбка в сборку по линии талии, средний шов юбки по центру заднего полотнища. Длина - выше колена. Низ юбки обработан швом в подгибку с обмётанным срезом. Отделка – окантовка. Рекомендуемая ткань – формоустойчивая, с хорошей драпируемостью.

Всероссийская олимпиада школьников по труду (технологии)
 Направление «Культура дома, дизайн и технологии» 2024-2025 уч. г.

Код _____ Муниципальный этап. 7 классы

| Таблица 1 | |
|---|--------------------------------------|
| 1. Выполнение творческого задания | |
| Описание модели | |
| 1. Наименование изделия | Платье для девочки |
| 2. Длина изделия | Выше колена |
| 3. Форма выреза горловины | округлый |
| 4. Вид рукава | из рукав округлый |
| 5. Наличие застежки | молния потайная |
| 6. Стиль | детский |
| 7. Силуэт | Прямой |
| 8. Конструктивные и декоративные линии: | по с юбка плиссе |
| | |
| | |
| | |
| | |
| 9. Вид отделки | окаймлена |
| | |
| 10. Применяемая фурнитура | фурнитура чкая |
| | |
| 11. Вид применяемой ткани (состав) | фурнитура чкая с юбка драпировкой |


Таблица 2

2. Перечень деталей кроя

| № п/п | Наименование деталей | Количество деталей |
|-------|----------------------|--------------------|
| 1 | шар | 0 |
| 2 | рукав | 2 |
| 3 | молния | 1 |
| 4 | юбка | 1 |
| 5 | | |

Таблица 3

3. Модель платья спортивного стиля

| Эскиз модели | Описание модели |
|--|--|
|  | 1. Наименование изделия: <i>спортивное платье</i> |
| | 2. Длина изделия: <i>по длине</i> |
| | 3. Форма выреза горловины: <i>одежда</i> |
| | 4. Вид рукава: <i>пышный</i> |
| | 5. Наличие застежки: <i>манжета потайная</i> |
| | 6. Стиль: <i>спортивный</i> |
| | 7. Силуэт: <i>прямой</i> |
| | 8. Конструктивные и декоративные линии: <i>по швам</i> |
| | 9. Вид отделки: <i>манжета</i> |
| | 10. Применяемая фурнитура: |
| | 11. Вид применяемой ткани (состав): <i>флисовая ткань</i> |

ВСЕРОССИЙСКАЯ ОЛИМПИАДА ШКОЛЬНИКОВ ПО ТРУДУ
(ТЕХНОЛОГИИ)

(МУНИЦИПАЛЬНЫЙ ЭТАП 2024-2025 учебный год)

Общая часть

Вопрос 1.

15

| | | | | |
|---|---|---|---|---|
| А | Б | В | Г | Д |
| 4 | 2 | 5 | 3 | 1 |

Вопрос 2.

ОТВЕТ: STL

Вопрос 3.

15

| | |
|---|---|
| А | Б |
| 1 | 2 |

Вопрос 4.

15

ОТВЕТ: 5) Кимо - зелёная

Вопрос 5.

15

ОТВЕТ: 42 мм

Специальная часть

Вопрос 6.

15

ОТВЕТ: 33444 111011

823

Вопрос 7.

ОТВЕТ: $\pi \approx 1760 \text{ см}$

Вопрос 8.

ОТВЕТ: 150

Вопрос 9.

ОТВЕТ: 5 мм

Вопрос 10.

ОТВЕТ: 180°

Вопрос 11.

15

ОТВЕТ: 3

Вопрос 12.

15

ОТВЕТ: 3, череда

Вопрос 13.

ОТВЕТ: 0

Вопрос 14.

○ ОТВЕТ: 0

Вопрос 15.

○ ОТВЕТ: 2 м

Вопрос 16.

ОТВЕТ: _____

Вопрос 17.

○ ОТВЕТ: 1800 см \approx 18 м

Вопрос 18.

ОТВЕТ: 18

Вопрос 19.

○ ОТВЕТ: 84

823

Вопрос 20.

○

ОТВЕТ: A

ТВОРЧЕСКОЕ ЗАДАНИЕ - КЕЙС-ЗАДАЧА.

○

823

713

10

ВСЕРОССИЙСКАЯ ОЛИМПИАДА ШКОЛЬНИКОВ ПО ТРУДУ
(ТЕХНОЛОГИИ)

(МУНИЦИПАЛЬНЫЙ ЭТАП 2024-2025 учебный год)

Общая часть

— Вопрос 1. (1 Балл)

ОТВЕТ: С

+ Вопрос 2. (1 Балл)

ОТВЕТ: С

— Вопрос 3. (1 Балл)

ОТВЕТ: 2

— Вопрос 4. (1 Балл)

ОТВЕТ: С

— Вопрос 5. (1 Балл)

ОТВЕТ: С

Специальная часть

— Вопрос 6. (1 Балл)

ОТВЕТ: 24 012

Вопрос 7. (1 Балл)

ОТВЕТ: 1101₂

Вопрос 8. (1 Балл)

ОТВЕТ: _____

Вопрос 9. (1 Балл)

ОТВЕТ: _____

Вопрос 10. (1 Балл)

ОТВЕТ: _____

Вопрос 11. (1 Балл)

ОТВЕТ: _____